



# 長いものの長さ 3

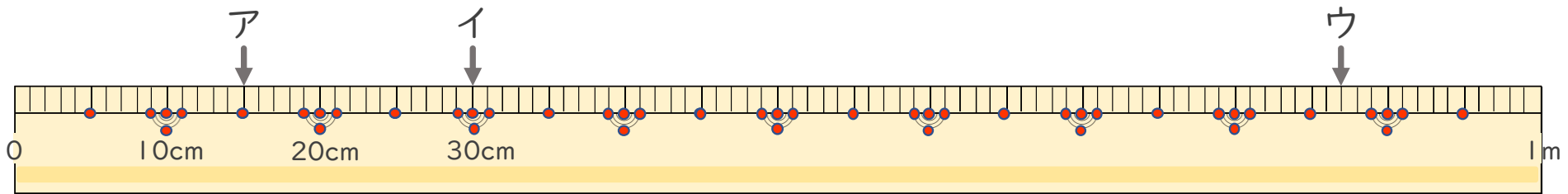
● 1メートルものさしの読みかた



日にち：      月      日

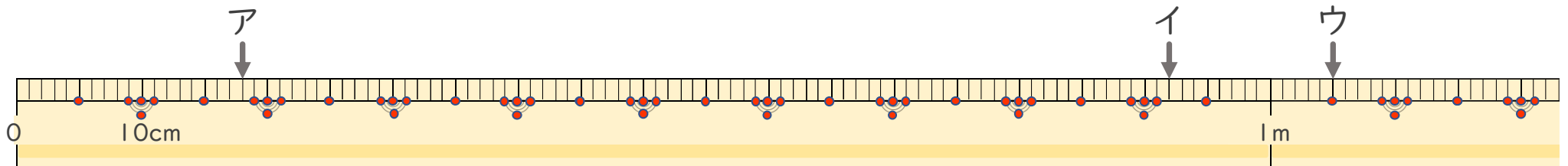
名まえ \_\_\_\_\_

1 左はしからア、イ、ウ、までの長さながはそれぞれどれだけですか。（うすい字はなぞりましょう。）



ア ( 15cm )      イ (                      )      ウ (                      )

2 左はしからア、イ、ウ、までの長さながはそれぞれどれだけですか。



ア (                      )      イ (                      )      ウ (                      )



# 長いものの長さ3

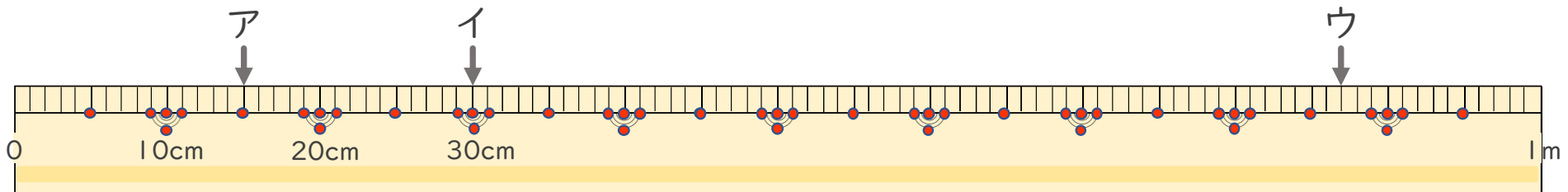
● 1メートルものさしの読みかた



日にち：      月      日

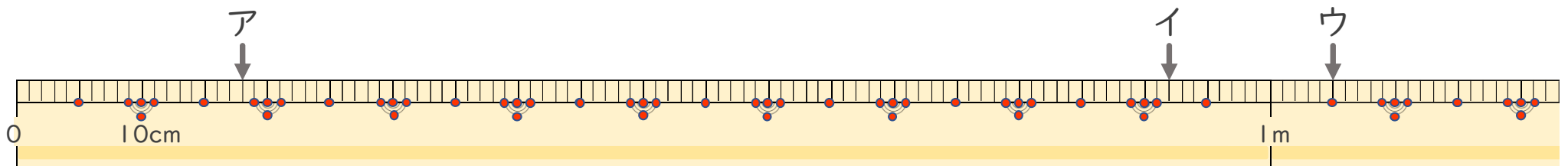
名まえ \_\_\_\_\_

1 左はしからア、イ、ウ、までの長さながはそれぞれどれだけですか。（うすい字はなぞりましょう。）



ア ( 15 cm )      イ ( 30 cm )      ウ ( 87 cm )

2 左はしからア、イ、ウ、までの長さながはそれぞれどれだけですか。



ア ( 18 cm )      イ ( 92 cm )      ウ ( 1 m 5 cm )