



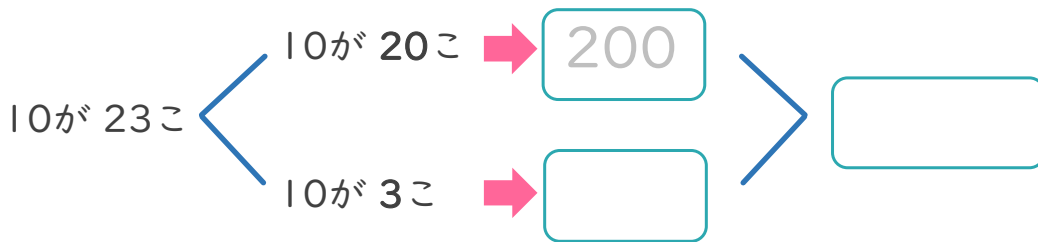

3けたの数 7 3

◎ 10を集めた数

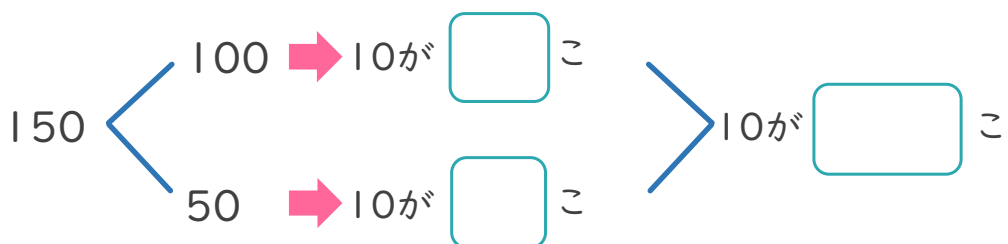

日にち： 月 日


名まえ _____

・ 10を 23こ あつめた 数はいくつですか。(うすい字はなぞりましょう。)



・ 150は、10を 何こ あつめた 数ですか。





3けたの数 7

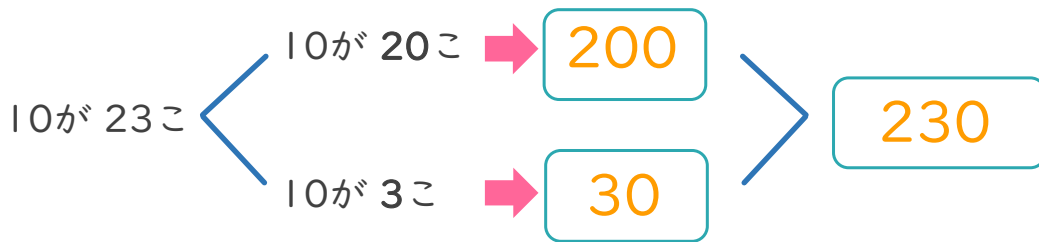
10を集めた数



日にち： 月 日

名まえ _____

・ 10を 23こ あつめた 数はいくつ ですか。(うすい字はなぞりましょう。)



・ 150は、 10を 何こ あつめた 数ですか。

