




## かけ算 19

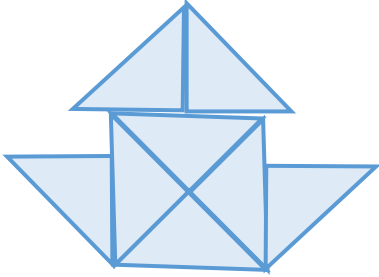
◎ 6~9のだんの  
文しょうもんだい



日にち：            月            日

名まえ \_\_\_\_\_

1 下のような形を 4つ 作ります。  の色いたは、  
ぜんぶで 何まい いらいますか。



しき：

答え： \_\_\_\_\_

2 ゆみさんは あめが 6こ 入った ふくろを 5ふくろ もっています。  
あめは ぜんぶで 何こ ありますか。

しき：

答え： \_\_\_\_\_




## かけ算 19

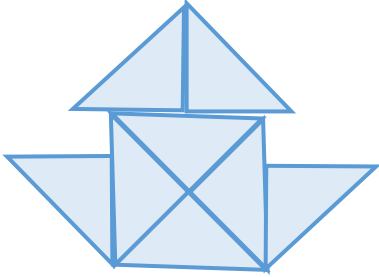
◎ 6~9のだんの  
文しょうもんだい



日にち：            月            日

名まえ \_\_\_\_\_

1 下のような形を4つ作ります。の色いたは、  
ぜんぶで何まいいりますか。



$$\text{しき： } 8 \times 4 = 32$$

答え： 32まい

2 ゆみさんはあめが6こ入ったふくろを5ふくろもっています。  
あめはぜんぶで何こありますか。

$$\text{しき： } 6 \times 5 = 30$$

答え： 30こ