




かけ算 19

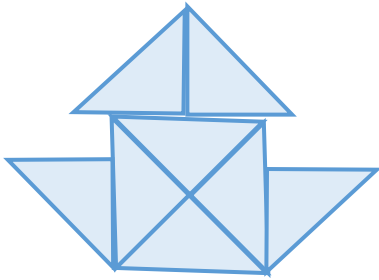
◎ 6～9の段の
文しょうだい



日にち： 月 日

名まえ _____

1 下のような形を4つ作ります。の色いたは、
ぜんぶで何まいいりますか。



しき：

答え： _____

2 ゆみさんはあめが6こ入ったふくろを5ふくろもっています。
あめはぜんぶで何こありますか。

しき：

答え： _____




かけ算 19

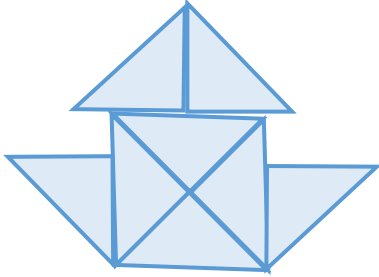
◎ 6～9の段の
文しょうだい



日にち： 月 日

名まえ _____

1 下のような形を 4つ 作ります。 の色いたは、
ぜんぶで 何まい いきますか。



$$\text{しき} : 8 \times 4 = 32$$

答え： 32まい

2 ゆみさんは あめが 6こ 入った ふくろを 5ふくろ もっています。
あめは ぜんぶで 何こ ありますか。

$$\text{しき} : 6 \times 5 = 30$$

答え： 30こ