



## かけ算 29


くふうして丸を数えよう

4

日にち：            月            日

名まえ \_\_\_\_\_

1 ● はぜんぶで何こありますか。● の数をもとめるかけ算のしきを2つ書いて答えましょう。




しき：

しき：

答え： \_\_\_\_\_

2 ● はぜんぶで何こありますか。● の数をもとめるかけ算のしきを2つ書いて答えましょう。



しき：

しき：

答え： \_\_\_\_\_



## かけ算 29


くふうして丸を数えよう

4

日にち：            月            日

名まえ \_\_\_\_\_

1 ● はぜんぶで何こありますか。● の数をもとめるかけ算のしきを2つ書いて答えましょう。




$$\text{しき： } 3 \times 6 = 18$$

$$\text{しき： } 6 \times 3 = 18$$

答え： 18こ

2 ● はぜんぶで何こありますか。● の数をもとめるかけ算のしきを2つ書いて答えましょう。



$$\text{しき： } 2 \times 8 = 16$$

$$\text{しき： } 8 \times 2 = 16$$

答え： 16こ