



かけ算 29


くふうして丸を数えよう

4

日にち： 月 日

名まえ _____

1 ● はぜんぶで何こありますか。 ● の数をもとめるかけ算のしきを2つ書いて答えましょう。




しき：

しき：

答え： _____

2 ● はぜんぶで何こありますか。 ● の数をもとめるかけ算のしきを2つ書いて答えましょう。



しき：

しき：

答え： _____



かけ算 29


くふうして丸を数えよう

4

日にち： 月 日

名まえ _____

1 ● はぜんぶで何こありますか。 ● の数をもとめるかけ算のしきを2つ書いて答えましょう。




$$\text{しき： } 3 \times 6 = 18$$

$$\text{しき： } 6 \times 3 = 18$$

答え： 18こ

2 ● はぜんぶで何こありますか。 ● の数をもとめるかけ算のしきを2つ書いて答えましょう。



$$\text{しき： } 2 \times 8 = 16$$

$$\text{しき： } 8 \times 2 = 16$$

答え： 16こ