



かけ算 25

● かけ算で
つみきの数をもとめる

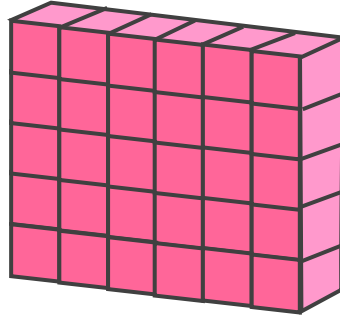


日にち： 月 日

名まえ _____


・ 下の つみきの 数をもとめる かけ算の しきを 2つ 書きましょう。

①



しき： () ()

②



しき： () ()



かけ算 25

● かけ算で
つみきの数をもとめる

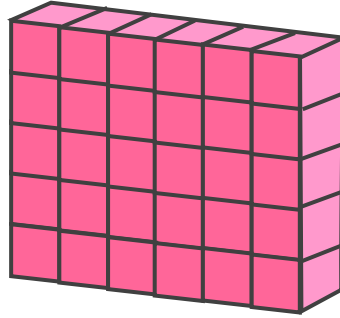


日にち： 月 日

名まえ _____


・ 下の つみきの 数をもとめる かけ算の しきを 2つ 書きましょう。

①



しき： (5×6) (6×5)

②



しき： (8×7) (7×8)

