



# たし算のひっ算2

◎ ひっ算の書き方

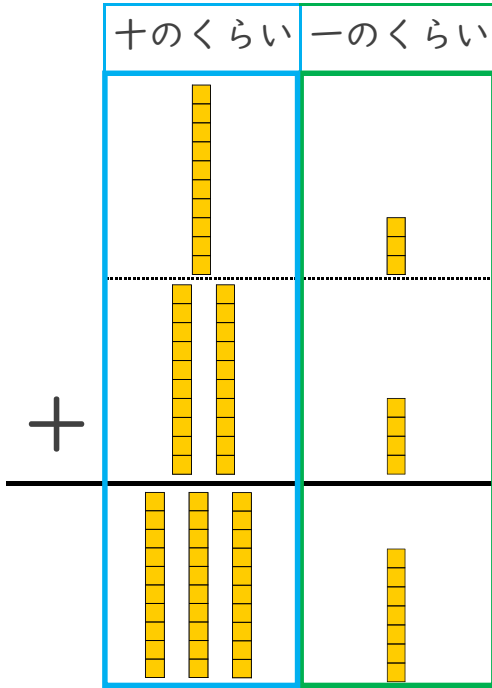
4

日にち： 月 日

名まえ \_\_\_\_\_

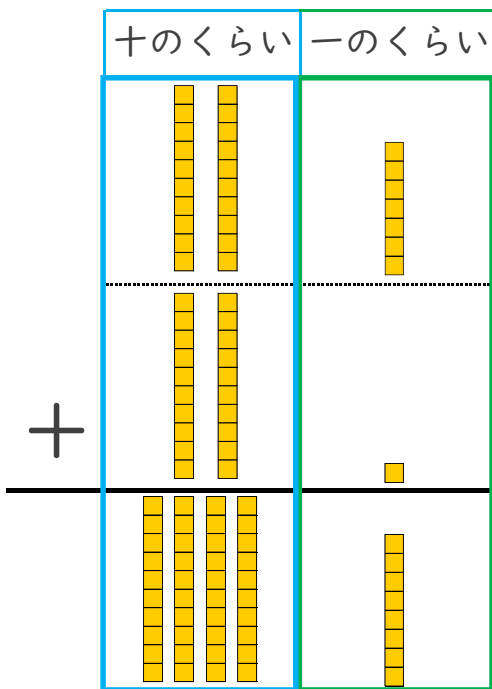
・ つぎの計算を ひっ算で しましょう。

①  $13 + 24$



くらいをそろえて書こう！


②  $27 + 21$



くらいをそろえて書こう！




# たし算のひっ算2

◎ ひっ算の書き方

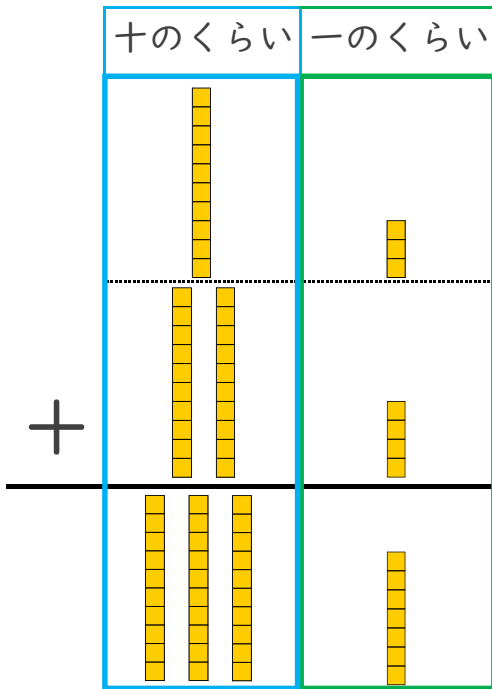
4

日にち： 月 日

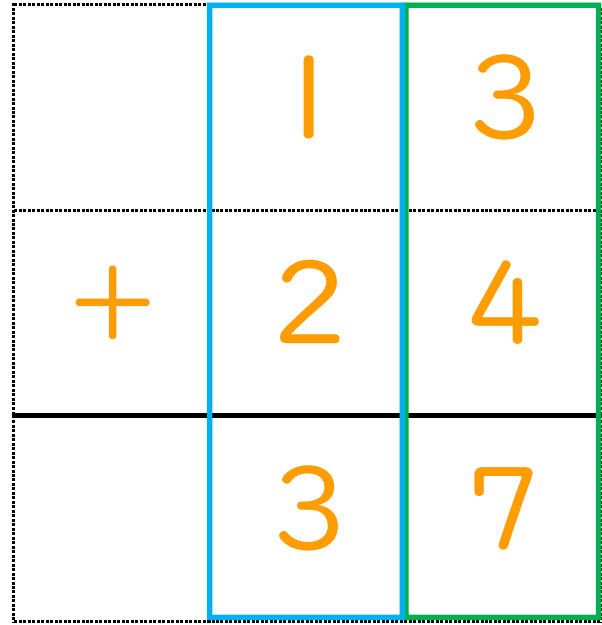
名まえ \_\_\_\_\_

・ つぎの計算を ひっ算で しましょう。(うすい字はなぞりましょう。)

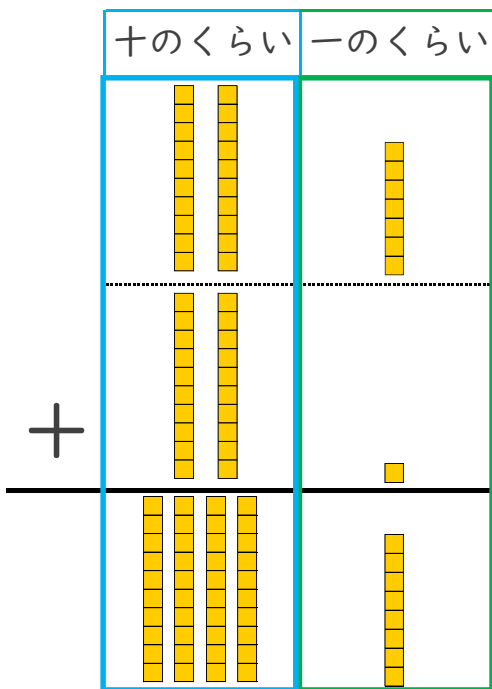
①  $13 + 24$



くらいをそろえて書こう！



②  $27 + 21$



くらいをそろえて書こう！

