



# 3けたの数 4

● ぼうや紙のたばを  
数字であらわそう




日にち：      月      日

名まえ \_\_\_\_\_

・ ぼうや 色紙の 数を、数字で 書きましよう。

①



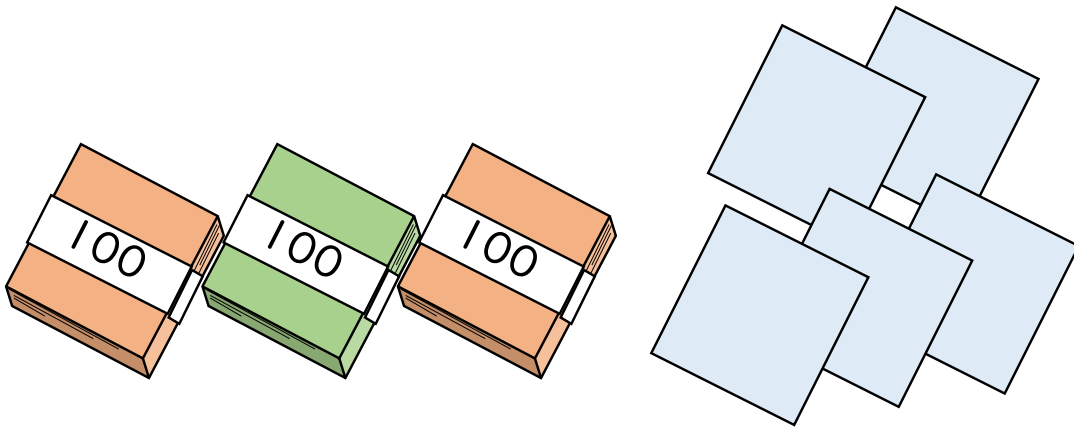
百	十	一

それぞれの たばの 数を  
表に 入れてみよう！



(                      ) 本

②



百	十	一

(                      ) まい





### 3けたの数4

● ぼうや紙のたばを  
数字であらわそう




日にち： 月 日

名まえ \_\_\_\_\_

・ ぼうや色紙の数を、数字で書きましょう。

①



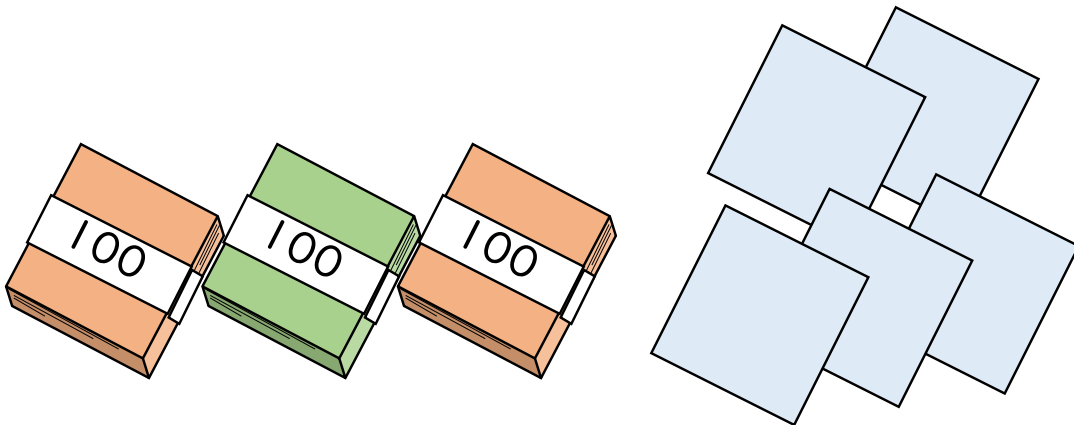
百	十	一
4	2	1

それぞれのたばの数を  
表に入れてみよう！



{ 421 本 }

②



百	十	一
3	0	5

{ 305 まい }

