



分数3


● もとの大きさの○分の一をさがす

4

日にち： 月 日

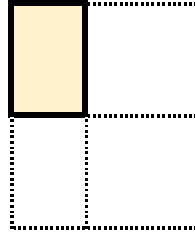
名まえ

1 もとの大きさの $\frac{1}{5}$ はどれですか。(うすい字はなぞりましょう。)

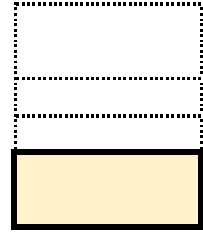


もとの大きさ

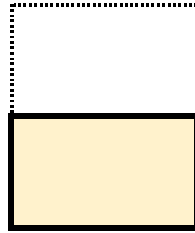
ア




イ



ウ




エ



答え：

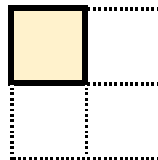
エ

2 もとの大きさの $\frac{1}{4}$ はどれですか。

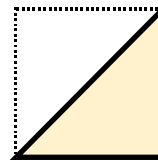


もとの大きさ

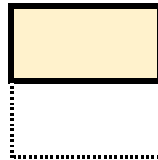
ア



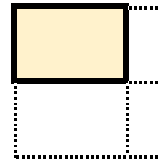
イ



ウ




エ



答え：





分数3


● もとの大きさの○分の一をさがす

4

日にち： 月 日

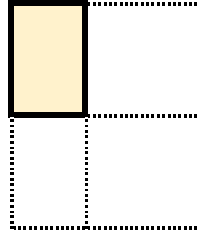
名まえ

1 もとの大きさの $\frac{1}{5}$ はどれですか。(うすい字はなぞりましょう。)

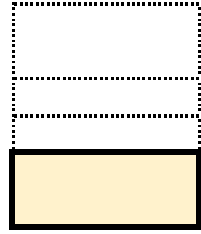


もとの大きさ

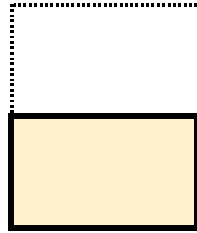
㉠




㉡



㉢




㉣



答え：

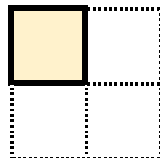
㉣

2 もとの大きさの $\frac{1}{4}$ はどれですか。

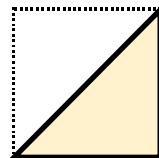


もとの大きさ

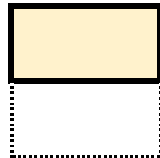
㉠



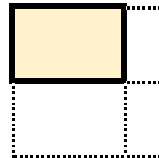
㉡



㉢



㉣



答え：

㉠

