



分数6

● もとの大きさはいくつ分？

4


日にち： 月 日

名まえ _____


・ つぎのもんだいに答えましょう。(うすい字はなぞりましょう。)

① もとの長さの $\frac{1}{8}$ をいくつあつめると、もとの長さになりますか。

もとの長さの $\frac{1}{8}$



もとの長さ




答え： 8つ

② もとの長さの $\frac{1}{3}$ をいくつあつめると、もとの長さになりますか。

もとの長さの $\frac{1}{3}$



もとの長さ



答え： 3つ

③ もとの長さの $\frac{1}{6}$ をいくつあつめると、もとの長さになりますか。

もとの長さの $\frac{1}{6}$



もとの長さ



答え： _____



分数6

● もとの大きさはいくつ分？

4


日にち： 月 日

名まえ _____

・ つぎのもんだいに答えましょう。(うすい字はなぞりましょう。)

① もとの長さの $\frac{1}{8}$ をいくつあつめると、もとの長さになりますか。

もとの長さの $\frac{1}{8}$



もとの長さ




答え： 8つ

② もとの長さの $\frac{1}{3}$ をいくつあつめると、もとの長さになりますか。

もとの長さの $\frac{1}{3}$



もとの長さ



答え： 3つ

③ もとの長さの $\frac{1}{6}$ をいくつあつめると、もとの長さになりますか。

もとの長さの $\frac{1}{6}$



もとの長さ



答え： 6つ