



長さのたんい 7

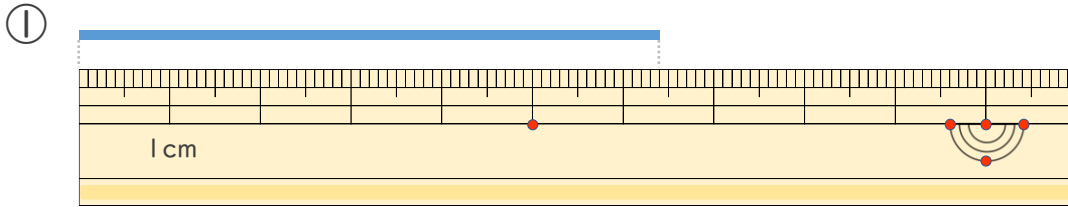
● ものさしではかる (mm)



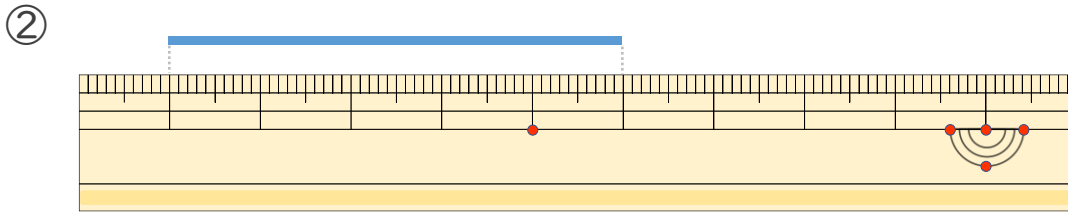
日にち： 月 日

名まえ _____

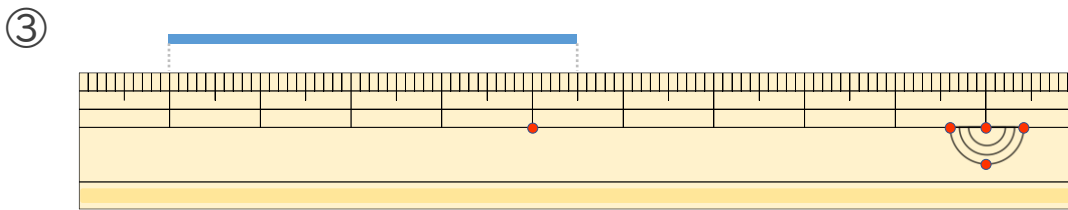
・ 線の ^{せん}長さ ^{なが}は どれ ^じだけ ですか。 (うすい字は なぞりましよう。)



こた
答え ()



こた
答え ()



こた
答え ()



長さのたんい 7

● ものさしではかる (mm)

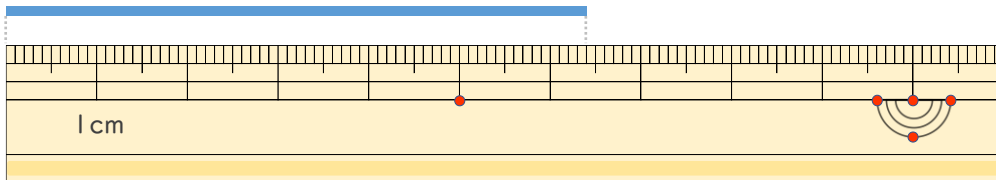


日にち： 月 日

名まえ _____

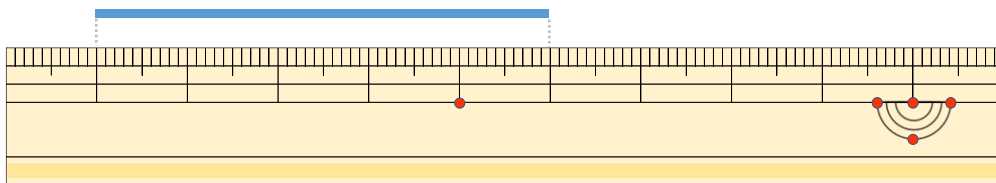
・線の長さ（せんなが）はどれだけですか。（うすい字（じ）はなぞりましょう。）

①



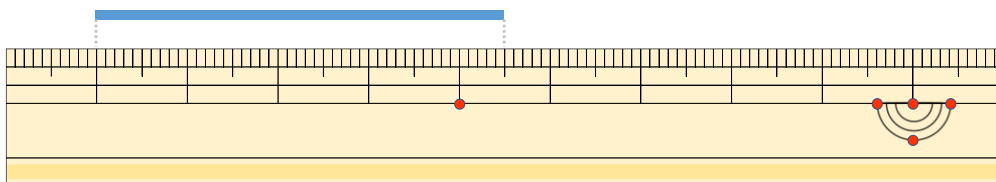
こた 答え（ 6 cm 4 mm ）

②



こた 答え（ 5 cm ）

③



こた 答え（ 4 cm 5 mm ）

