



長さのたんい 3

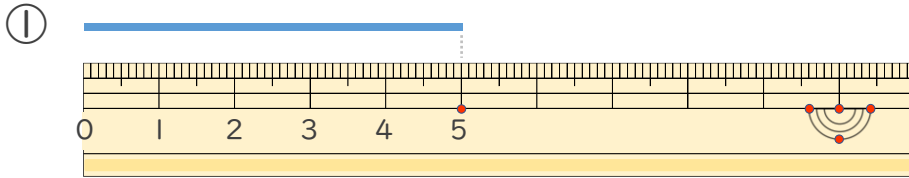
● 物のさしの見かた (cm)



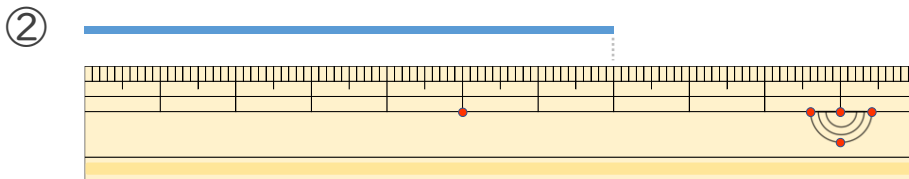
日にち： 月 日

名まえ _____

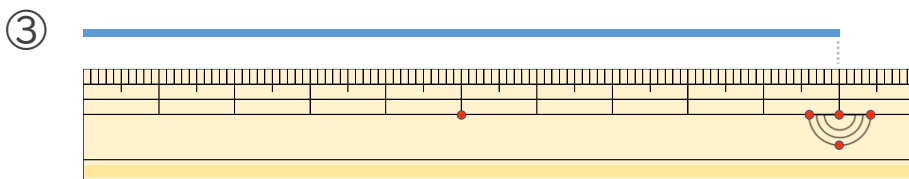
・線の長さは何cmでしょう。(うすい字はなぞりましょう。)



答え (cm)



答え ()



答え ()



長さのたんい 3

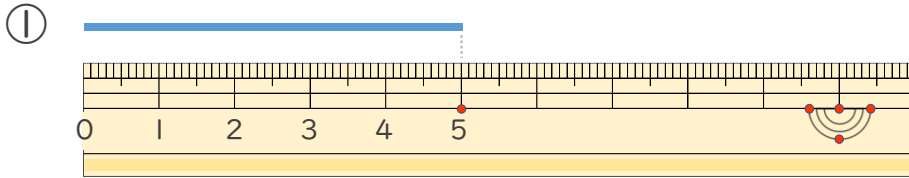
● ものさしの見かた (cm)



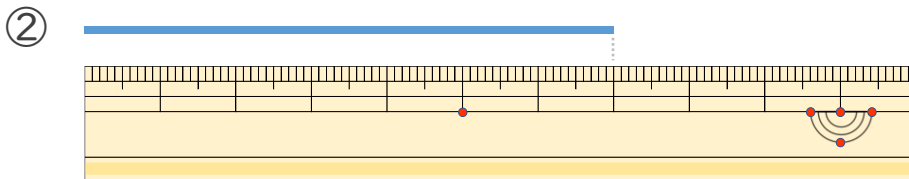
日にち： 月 日

名まえ _____

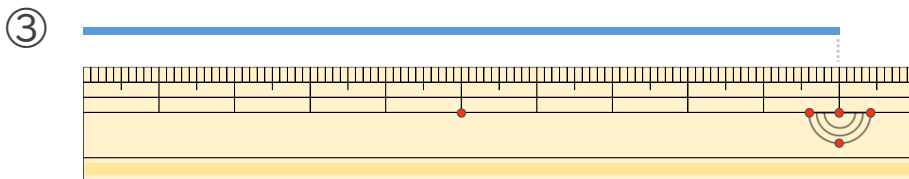
・ 線の長さは何cmでしょう。(うすい字はなぞりましょう。)



答え (5 cm)



答え (7 cm)



答え (10cm)

