



# 長さのたんい 3

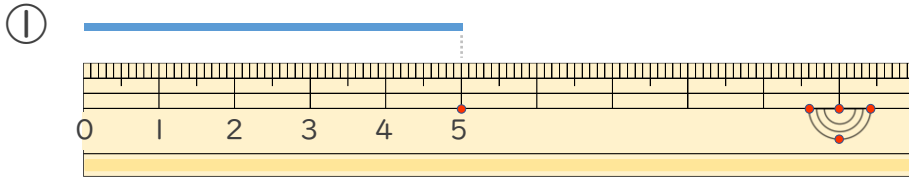
● 物のさしの見かた (cm)



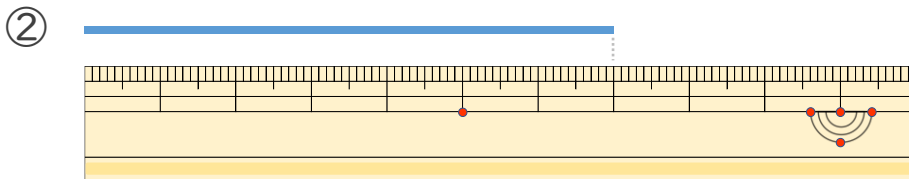
日にち：            月            日

名まえ \_\_\_\_\_

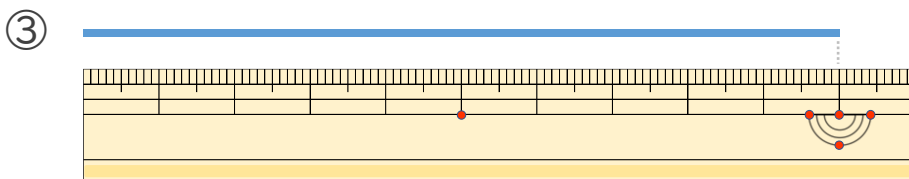
・線の長さは何cmでしょう。(うすい字はなぞりましょう。)



こた 答え (            cm )



こた 答え (            )



こた 答え (            )





# 長さのたんい 3

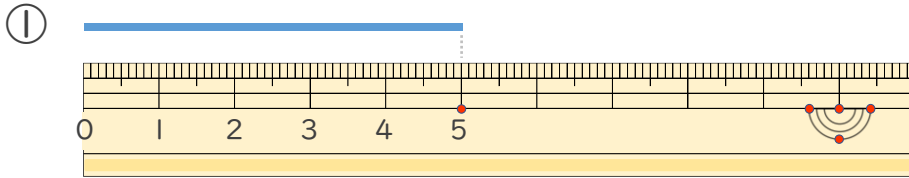
● ものさしの見かた (cm)



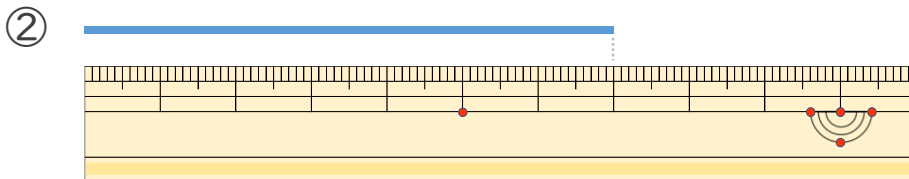
日にち：            月            日

名まえ \_\_\_\_\_

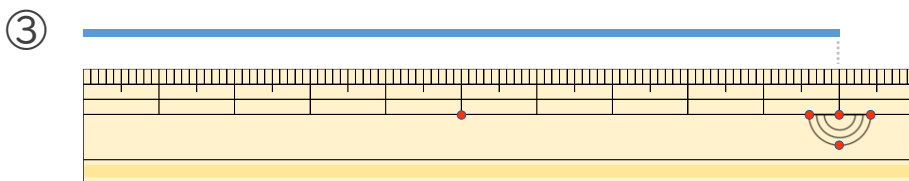
・ 線の長さは何cmでしょう。(うすい字はなぞりましょう。)



答え ( 5 cm )



答え ( 7 cm )



答え ( 10cm )

