



# 長さのたんい 2

● センチメートル




日にち：            月            日

名まえ \_\_\_\_\_

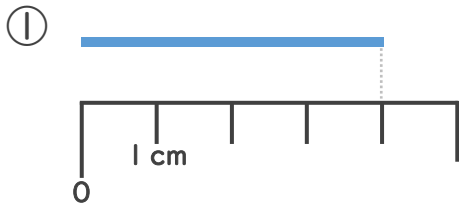
1 長さは <sup>なが</sup> 1 cm が <sup>ぶん</sup> いくつ分あるかであらわします。  
cm の <sup>か</sup> <sup>かた</sup> 書き方を れんしゅう しましょう。



1 cm 1 cm

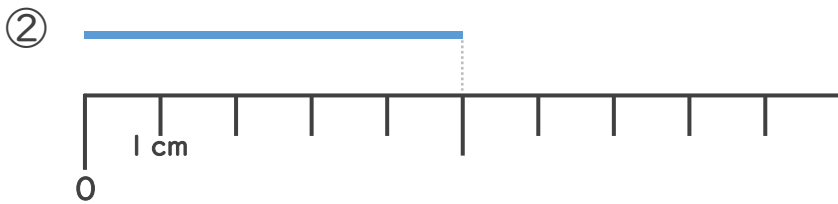
↑ なぞろう！ 

2 <sup>せん</sup> 線の <sup>なが</sup> 長さは <sup>なん</sup> 何 cm でしょう。（うすい字は <sup>じ</sup> なぞりましょう。）



1 cm が <sup>ぶん</sup> 4 つ分あるね！

こた 答え（            cm            ）



こた 答え（                       ）





# 長さのたんい 2

● センチメートル

4

日にち：            月            日

名まえ \_\_\_\_\_

1 長さは 1 cm がいくつ分あるかであらわします。  
cm の書き方を れんしゅう しましょう。

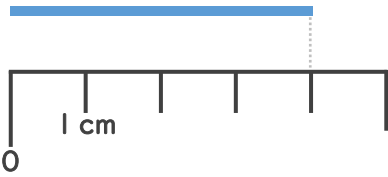


1 cm 1 cm 1 cm 1 cm 1 cm

↑ なぞろう！

2 線の長さは何 cm でしょう。（うすい字はなぞりましょう。）

①



1 cm が 4 つ分あるね！

答え（ 4 cm ）

②



答え（ 5 cm ）

