



ひき算のひっ算 I

◎ タイルでかんがえる



日にち： 月 日

名まえ _____

- ・ いずみさんは 55円 もっています。11円のガムを 買います。のこりは いくらですか。

もっている お金

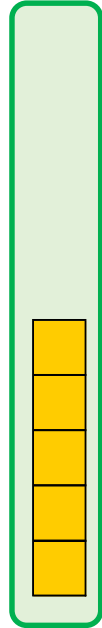

ガム

十のくらい

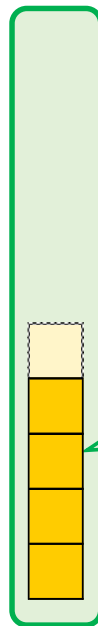
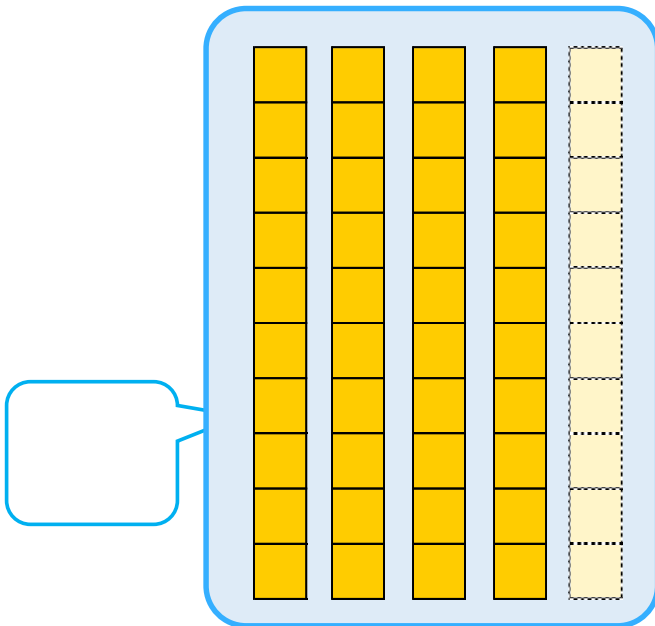
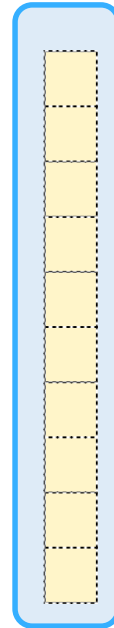
一のくらい

十のくらい

一のくらい



—



答え： _____





ひき算のひっ算 I

◎ タイルでかんがえる



日にち： 月 日

名まえ _____

- ・ いずみさんは 55円 もっています。11円のガムを 買います。のこりは いくらですか。

もっている お金

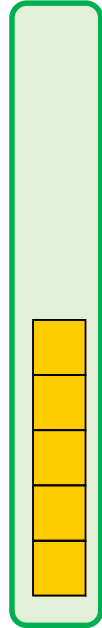

ガム

十のくらい

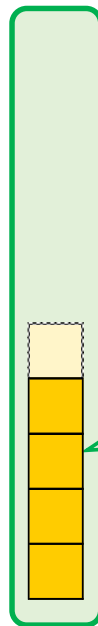
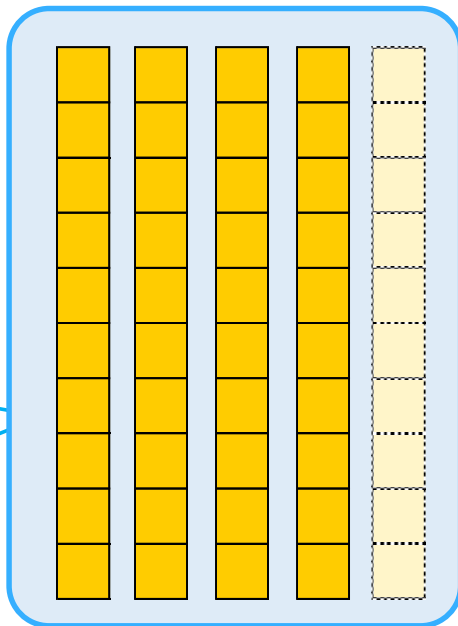
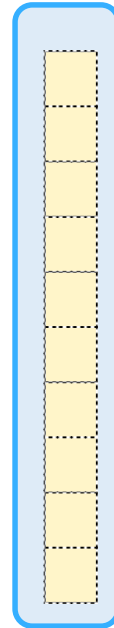
一のくらい

十のくらい

一のくらい



—



40

4

答え： 44円

