



長さのたんい 5

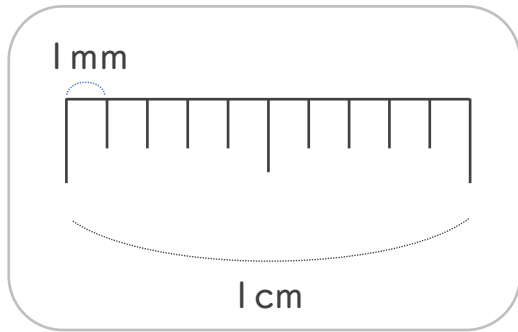
● ミリメートル



日にち： 月 日

名まえ _____

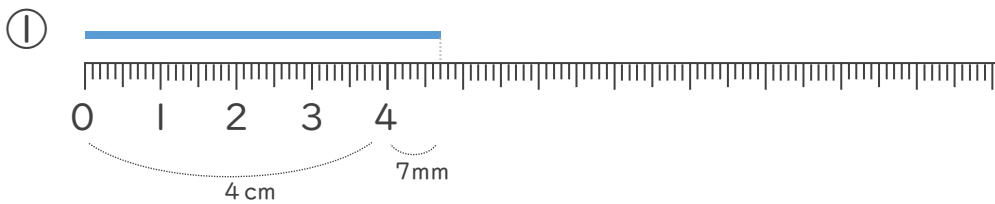
1 1cmを 同じ長さに、10に分けた 1つ分の長さを 1mm(ミリメートル)と います。



mm (ミリメートル) の 書き方を れんしゅうしましょう。

1 mm 1 mm

2 線の 長さは 何cm何mm でしょう。(うすい字はなぞりましよう。)



1 cmが 4こ分と、
1 mmが 7こ分 あるよ

答え (cm mm)



答え (cm mm)





長さのたんい 5

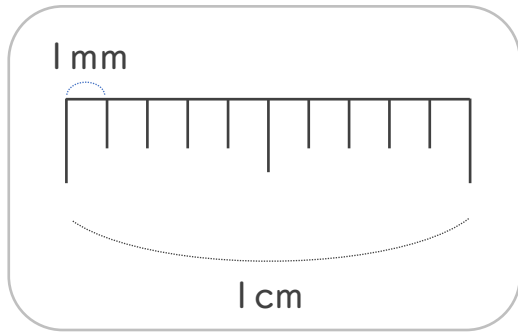
● ミリメートル



日にち： 月 日

名まえ _____

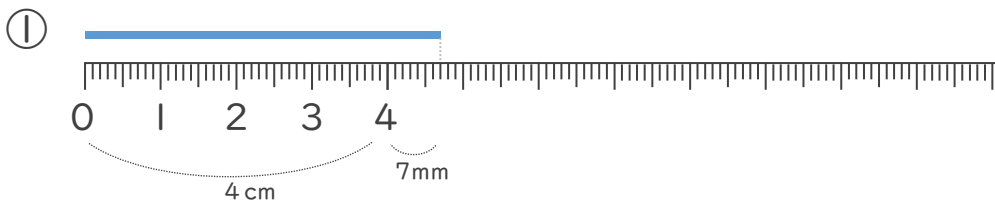
1 1cmを ^{おな} 同じ ^{なが} 長さに、10に ^わ 分けた ^{ぶん} 1つ分の ^{なが} 長さを
1mm(ミリメートル)と います。



mm (ミリメートル) の ^か 書き方 ^{かた} を れんしゅう しましょう。

1 mm 1 mm 1 mm 1 mm 1 mm

2 ^{せん} 線の ^{なが} 長さは ^{なん} 何cm ^{なん} 何mm でしょう。(うすい ^じ 字はなぞりましょ
う。)



1 cmが 4こ分と、
1 mmが 7こ分 あるよ

こた 答え (4 cm 7 mm)



こた 答え (3 cm 8 mm)

