



# 水のかさ 3

リットル



日にち： 月 日

名まえ \_\_\_\_\_

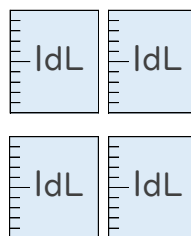
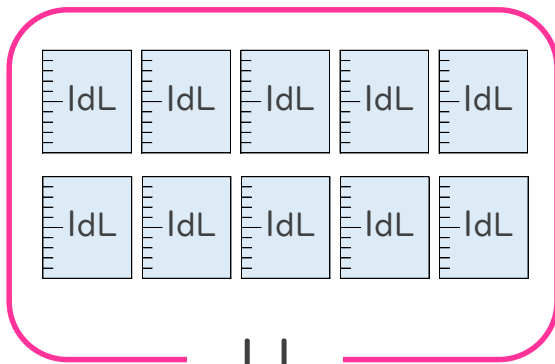
1 大きな かさを あらわすときは、リットルという たんいをつかいます。  
リットルは L と書き、1L は 10dL です。

L の書き方を れんしゅうしましょう。(うすい字はなぞりましょう。)

L L

2 つぎの ペットボトルに入る 水のかさを しらべましょう。

(うすい字はなぞりましょう。)



① ペットボトルに入る 水のかさは、何dLですか。

答え： \_\_\_\_\_ dL

② ペットボトルに入る 水のかさは、何L何dLですか。

1 L = 10dL だよ！



答え： \_\_\_\_\_ L dL





# 水のかさ 3

● リットル



日にち： 月 日

名まえ \_\_\_\_\_

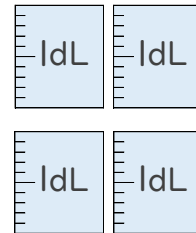
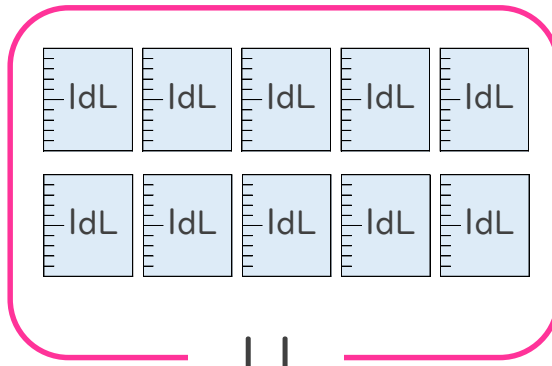
1 大きな かさを あらわすときは、リットルという たんいをつかいます。  
リットルは L と書き、1L は 10dL です。

L の書き方を れんしゅうしましょう。(うすい字はなぞりましょう。)



2 つぎの ペットボトルに入る 水のかさを しらべましょう。

(うすい字はなぞりましょう。)



① ペットボトルに入る 水のかさは、何dLですか。

答え： 14dL

② ペットボトルに入る 水のかさは、何L何dLですか。

1 L = 10dL だよ！



答え： 1 L 4 dL

