



かけ算 27

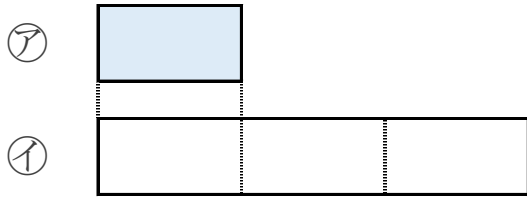
● リボンの長さは何倍？



日にち： 月 日

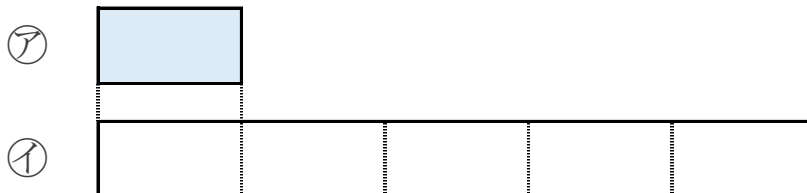
名まえ _____

1 ①のリボンの長さは、②のリボンの長さの何ばいですか。



答え： _____

2 ①のリボンの長さは、②のリボンの長さの何ばいですか。



答え： _____





かけ算 27

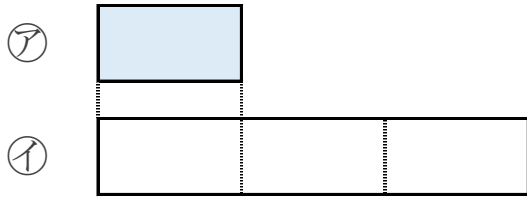
● リボンの長さは何倍？



日にち： 月 日

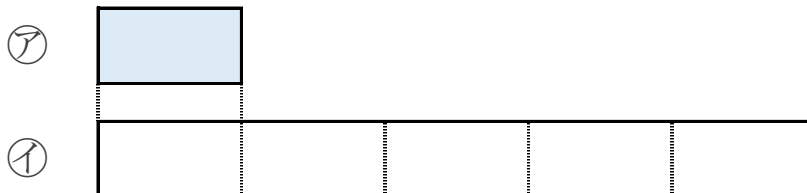
名まえ _____

1 ①のリボンの長さは、②のリボンの長さの何ばいですか。



答え： 3ばい

2 ①のリボンの長さは、②のリボンの長さの何ばいですか。



答え： 5ばい

