



かけ算 26

● リボンの2ばいの長さ



日にち： 月 日

名まえ _____

1 ㊦のリボンの4ばいの長さを求めましょう。

① ㊦のリボンの4ばいの長さに色をぬりましょう。



② ㊦のリボンの長さは、9cmです。

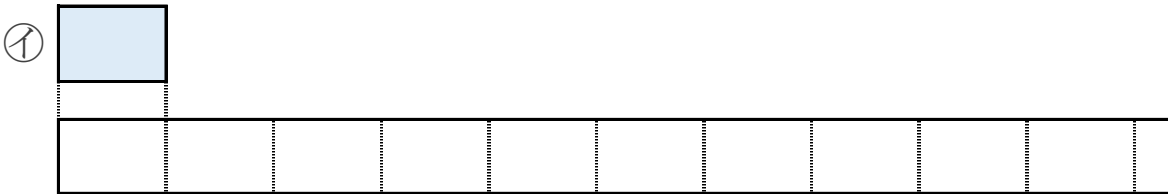
①でぬったところの長さは何cmですか。

しき：

答え： _____

2 ㊧のリボンの9ばいの長さを求めましょう。

① ㊧のリボンの9ばいの長さに色をぬりましょう。



② ㊧のリボンの長さは、5cmです。

①でぬったところの長さは何cmですか。

しき：

答え： _____





かけ算 26

● リボンの2ばいの長さ




日にち： 月 日

名まえ _____

1 ㉗のリボンの4ばいの長さを求めましょう。

① ㉗のリボンの4ばいの長さに色をぬりましょう。



② ㉗のリボンの長さは、9cmです。

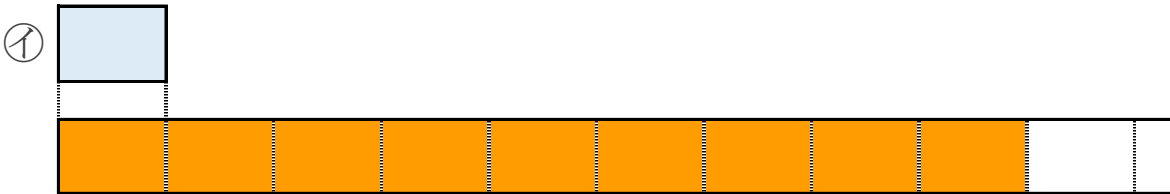
①でぬったところの長さは何cmですか。

$$\text{しき： } 9 \times 4 = 36$$

答え： 36cm

2 ㉘のリボンの9ばいの長さを求めましょう。

① ㉘のリボンの9ばいの長さに色をぬりましょう。



② ㉘のリボンの長さは、5cmです。

①でぬったところの長さは何cmですか。

$$\text{しき： } 5 \times 9 = 45$$

答え： 45cm

