



4けたの数 14


● 一万とは



日にち： 月 日

名まえ _____

・ 図を見てこたえましょう。



1000

千を10こあつめた数を

といい、

と書きます。



10000は、

100を

こ

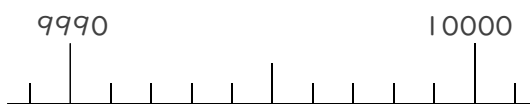
あつめた数です。

① 1000のあつまりは何こありますか

② ●は何こありますか。

③ 9000は、あといくつで10000になりますか。

④ 9990は、あといくつで10000になりますか。





4けたの数 14


● 一万とは



日にち： 月 日

名まえ _____

・ 図を見てこたえましょう。



1000

千を10こあつめた数を

一万 といい、

10000 と書きます。



10000は、

100を **100** こ

あつめた数です。

① 1000のあつまりは何こありますか

[**10** こ]

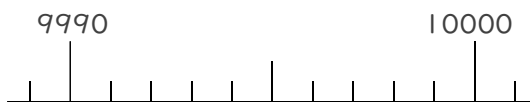
② ●は何こありますか。

[**10000** こ]

③ 9000は、あといくつで10000になりますか。

[**1000**]

④ 9990は、あといくつで10000になりますか。



[**10**]

④ 確認 答え



すらすらぷりんと