



4けたの数 15

● 一万までの数の線

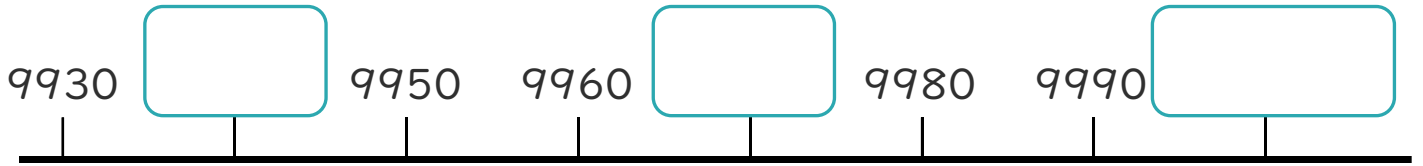


日にち： 月 日

名まえ _____

・ □ にあう数を書きましょう。

①



10ずつふえているね!



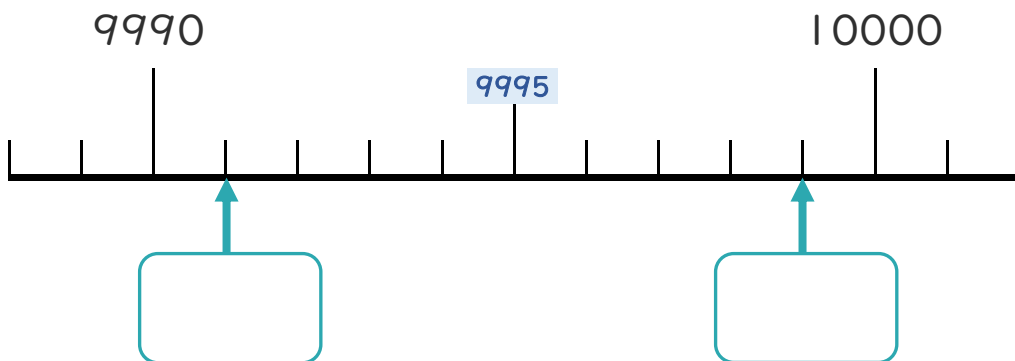
②



100ずつふえているね!



③





4けたの数 15

● 一万までの数の線

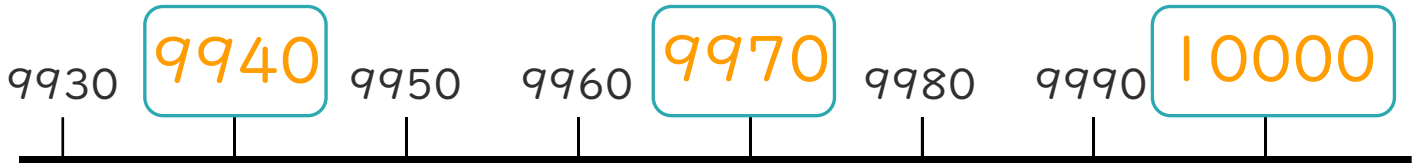


日にち： 月 日

名まえ _____

・ □ にあう数を書きましょう。

①



10ずつふえているね!



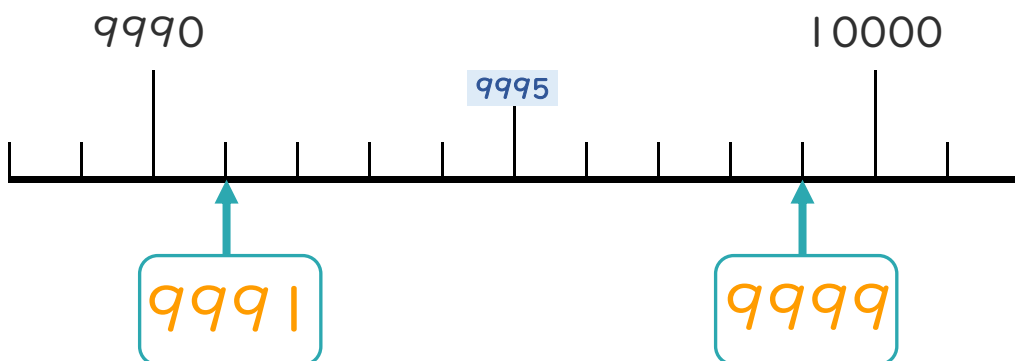
②



100ずつふえているね!



③



④ 確認 答え



すらすらぷりんと