



長方形と正方形 I

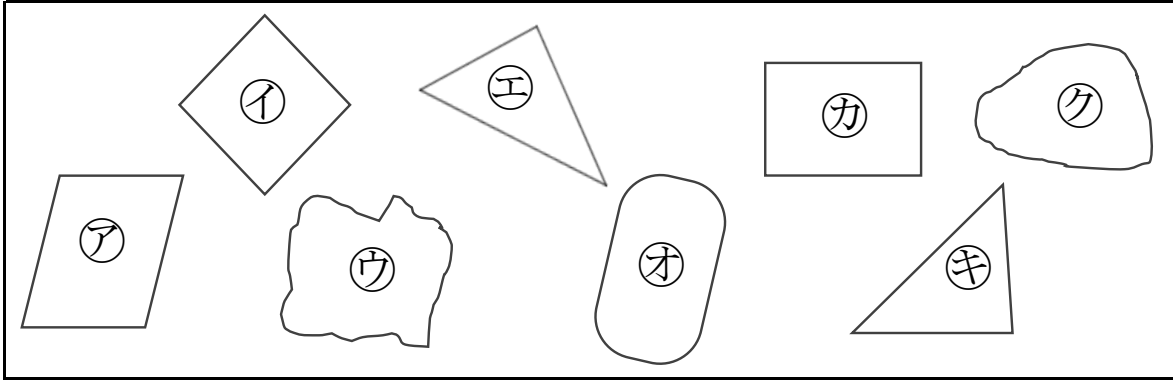
● 三角形や四角形をさがせ



日にち： 月 日

名まえ _____

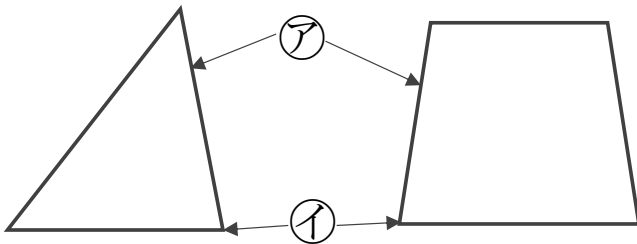
1 下の㉠～㉧から三角形や四角形を見つけましょう。



答え： 三角形…
四角形…

2 つぎのもんだいに答えましょう。

① つぎの㉠、㉡の名前を答えましょう。



答え： ㉠…
㉡…

② 三角形、四角形には、ちょう点やへんはそれぞれいくつありますか。

答え： 三角形… ちょう点 3つ、へん 3本
四角形… ちょう点 4つ、へん 4本



長方形と正方形 I

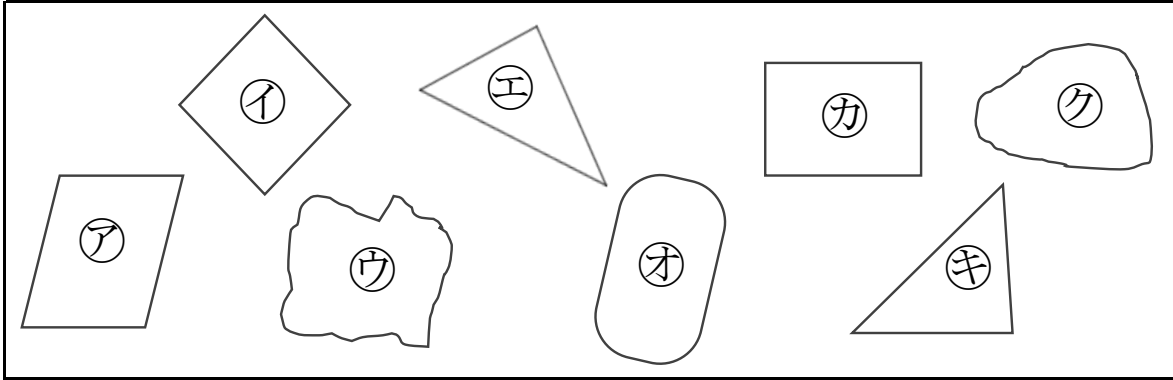
● 三角形や四角形をさがせ



日にち： 月 日

名まえ _____

1 下の㉠～㉧から三角形や四角形を見つけましょう。

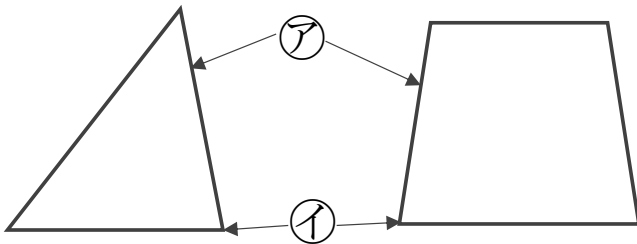


答え： 三角形… ㉢, ㉧

四角形… ㉠, ㉡, ㉥

2 つぎのもんだいに答えましょう。

① つぎの㉠、㉡の名前を答えましょう。



答え： ㉠… へん

㉡… ちょう点

② 三角形、四角形には、ちょう点やへんはそれぞれいくつありますか。

答え： 三角形… ちょう点 3つ、へん 3本

四角形… ちょう点 4つ、へん 4本