



分数7

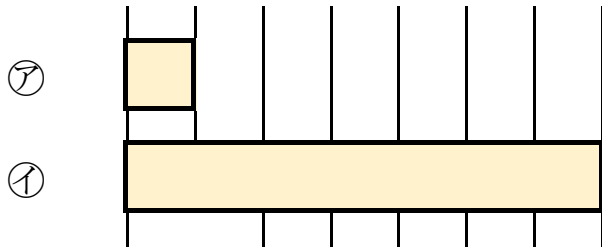
何倍？何分のー？

4

日にち： 月 日

名まえ

1 つぎの図を見てもんだいに答えましょう。(うすい字はなぞろう。)



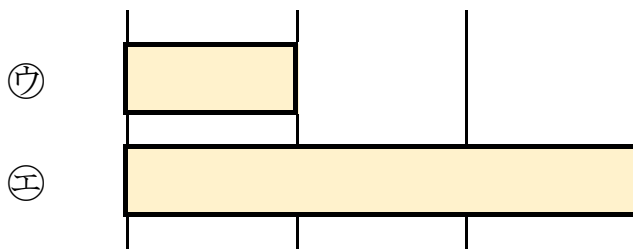
① 下の①のテープの長さは、⑦のテープの長さの何ばいですか。

答え： 7 ばい

② 上の⑦のテープの長さは、①のテープの長さの何分のーですか。

答え： $\frac{1}{7}$

2 つぎの図を見てもんだいに答えましょう。




① 下の㊥のテープの長さは、㊦のテープの長さの何ばいですか。

答え： _____

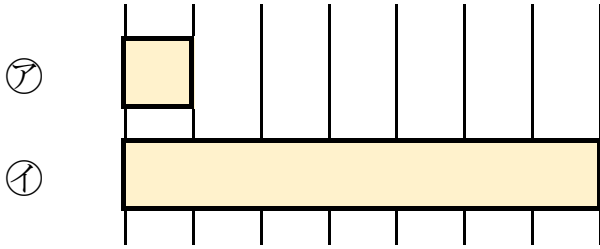
② 上の㊦のテープの長さは、㊥のテープの長さの何分のーですか。

答え： _____





1 つぎの図を見てもんだいに答えましょう。（うすい字はなぞろう。）



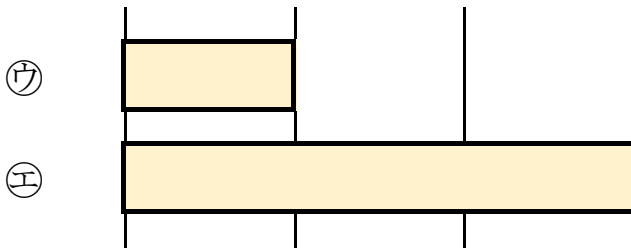
① 下の①のテープの長さは、⑦のテープの長さの何ばいですか。

答え： 7 ばい

② 上の⑦のテープの長さは、①のテープの長さの何分のーですか。

答え： $\frac{1}{7}$

2 つぎの図を見てもんだいに答えましょう。



① 下の㉔のテープの長さは、㉗のテープの長さの何ばいですか。

答え： 3 ばい

② 上の㉗のテープの長さは、㉔のテープの長さの何分のーですか。

答え： $\frac{1}{3}$

