



分数7

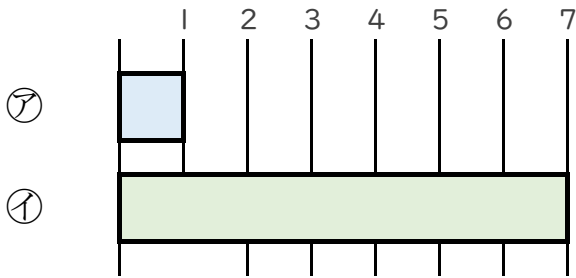
何倍？何分の一？

4

日にち： 月 日

名まえ _____

1 つぎの図を見てもんだいに答えましょう。(うすい字はなぞろう。)



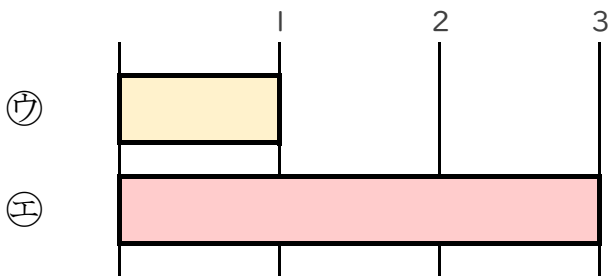
① 下の①のテープの長さは、②のテープの長さの何ばいですか。

答え： 7ばい

② 上の②のテープの長さは、①のテープの長さの何分の一ですか。

答え： $\frac{1}{7}$

2 つぎの図を見てもんだいに答えましょう。



① 下の①のテープの長さは、②のテープの長さの何ばいですか。

答え： _____

② 上の②のテープの長さは、①のテープの長さの何分の一ですか。

答え： _____



分数7

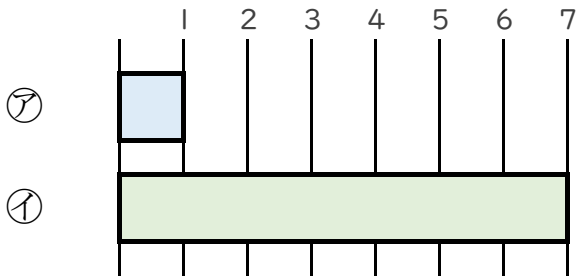
何倍？何分の一？

4

日にち： 月 日

名まえ _____

1 つぎの図を見てもんだいに答えましょう。（うすい字はなぞろう。）



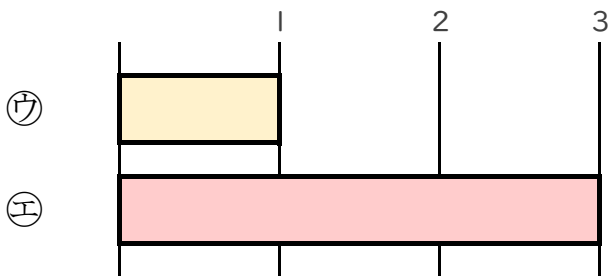
① 下の①のテープの長さは、②のテープの長さの何ばいですか。

答え： 7ばい

② 上の②のテープの長さは、①のテープの長さの何分の一ですか。

答え： $\frac{1}{7}$

2 つぎの図を見てもんだいに答えましょう。



① 下の①のテープの長さは、②のテープの長さの何ばいですか。

答え： 3ばい

② 上の②のテープの長さは、①のテープの長さの何分の一ですか。

答え： $\frac{1}{3}$