



3けたの数 8

十ずつのメモリの数直線



日にち： 月 日

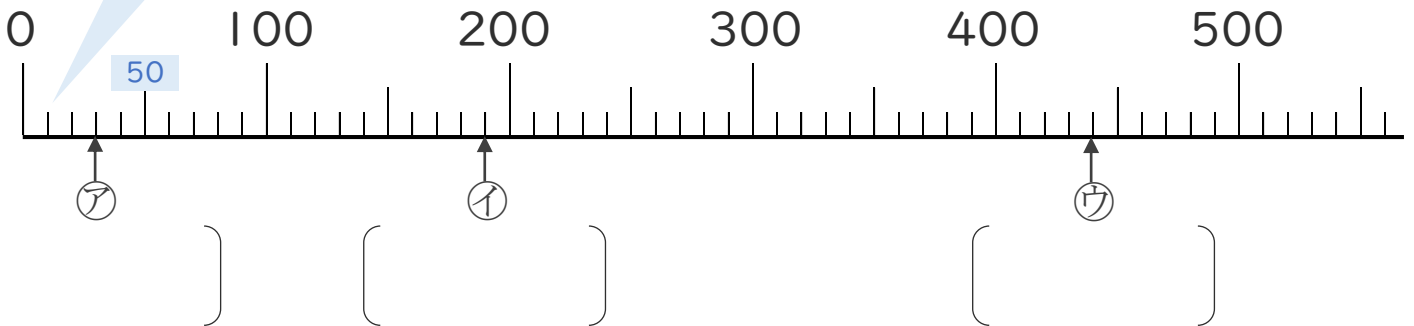
名まえ _____

1 数の線を見て、ア、イ、ウのメモリがあらわす数を
いみましょう。

☆いちばん小さい1メモリはいくつ？

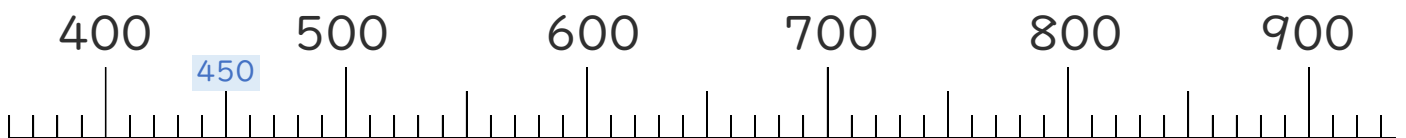
0と100の間が10こに分かれているから、

いちばん小さい1メモリは だね！



2 つぎの数をあらわすメモリに、↑をかきましょう。

①650 ②810





3けたの数 8

● 十ずつのメモリの数直線



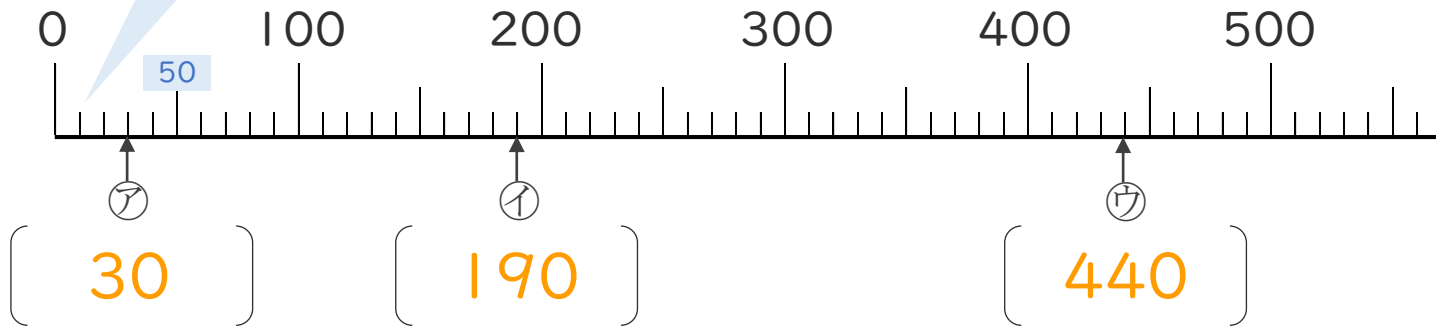
日にち： 月 日

名まえ _____

1 数の線を見て、㉠、㉡、㉢のメモリがあらわす数を
いみましょう。

☆いちばん小さい1メモリはいくつ？

0と100の間が10こに分かれているから、
いちばん小さい1メモリは **10** だね！



2 つぎの数をあらわすメモリに、↑をかきましょう。

①650 ②810

