



4けたの数 I

● 千のまとまり



日にち： 月 日

名まえ _____


・ ビーズは何こありますか。□にかずをかきましょう。

1000が □ こ

100が □ こ

10が □ こ

1が □ こ



は ● が 100こだよ！

100が10こで1000になるね！



ビーズは

□ □ □ □

こ





4けたの数 I


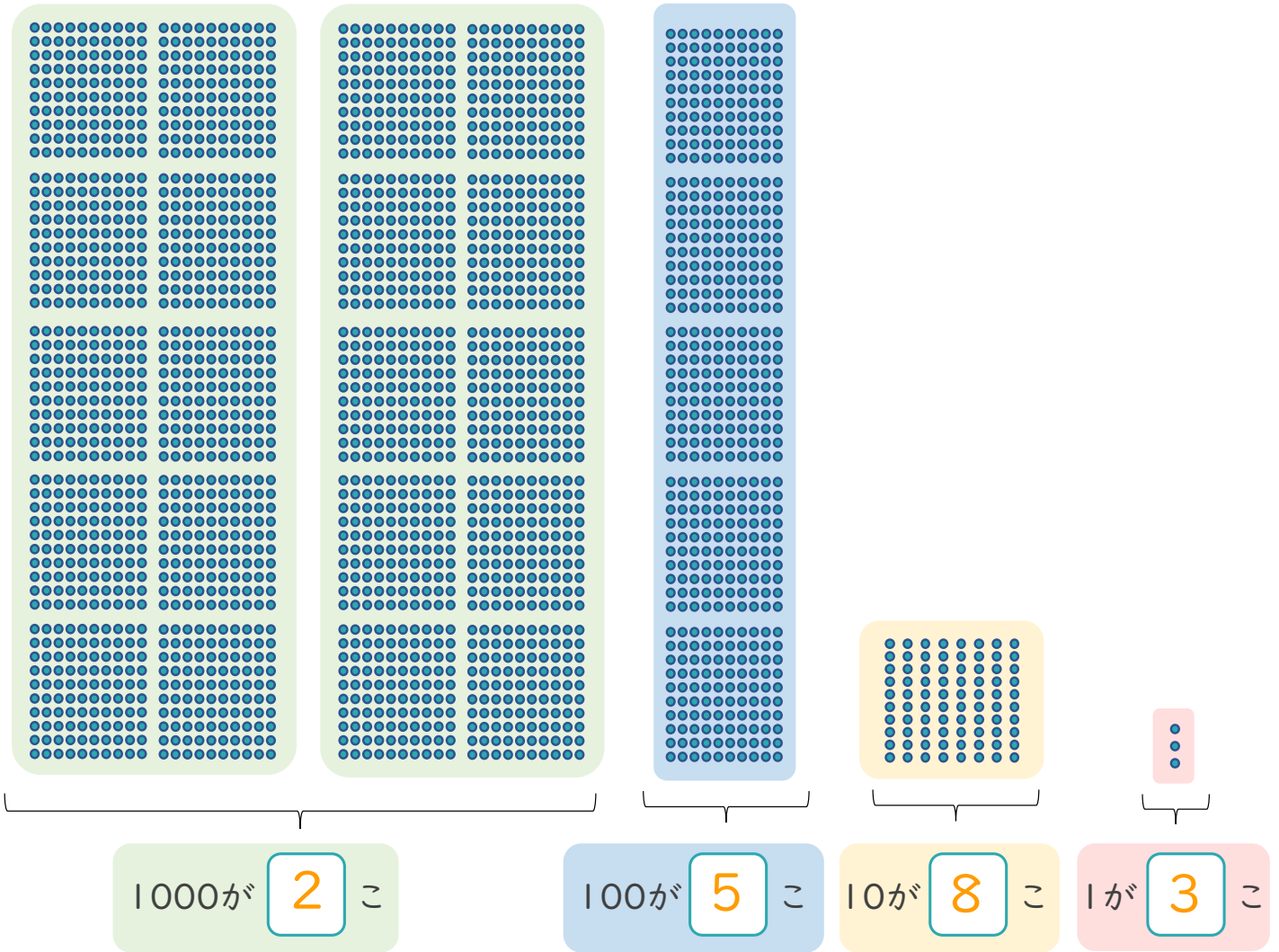
● 千のまとまり



日にち： 月 日

名まえ _____

・ ビーズは何こありますか。□にかずをかきましょう。



は ● が 100こだよ！

100が10こで1000になるね！



ビーズは



こ

