



4けたの数 I

● 千のまとまり



日にち： 月 日

名まえ _____


・ ビーズは何こありますか。 に数を書きましょう。

1000が こ

100が こ

10が こ

1が こ



は ● が 100こだよ！

100が10こで1000になるね！



ビーズは

こ





4けたの数 I


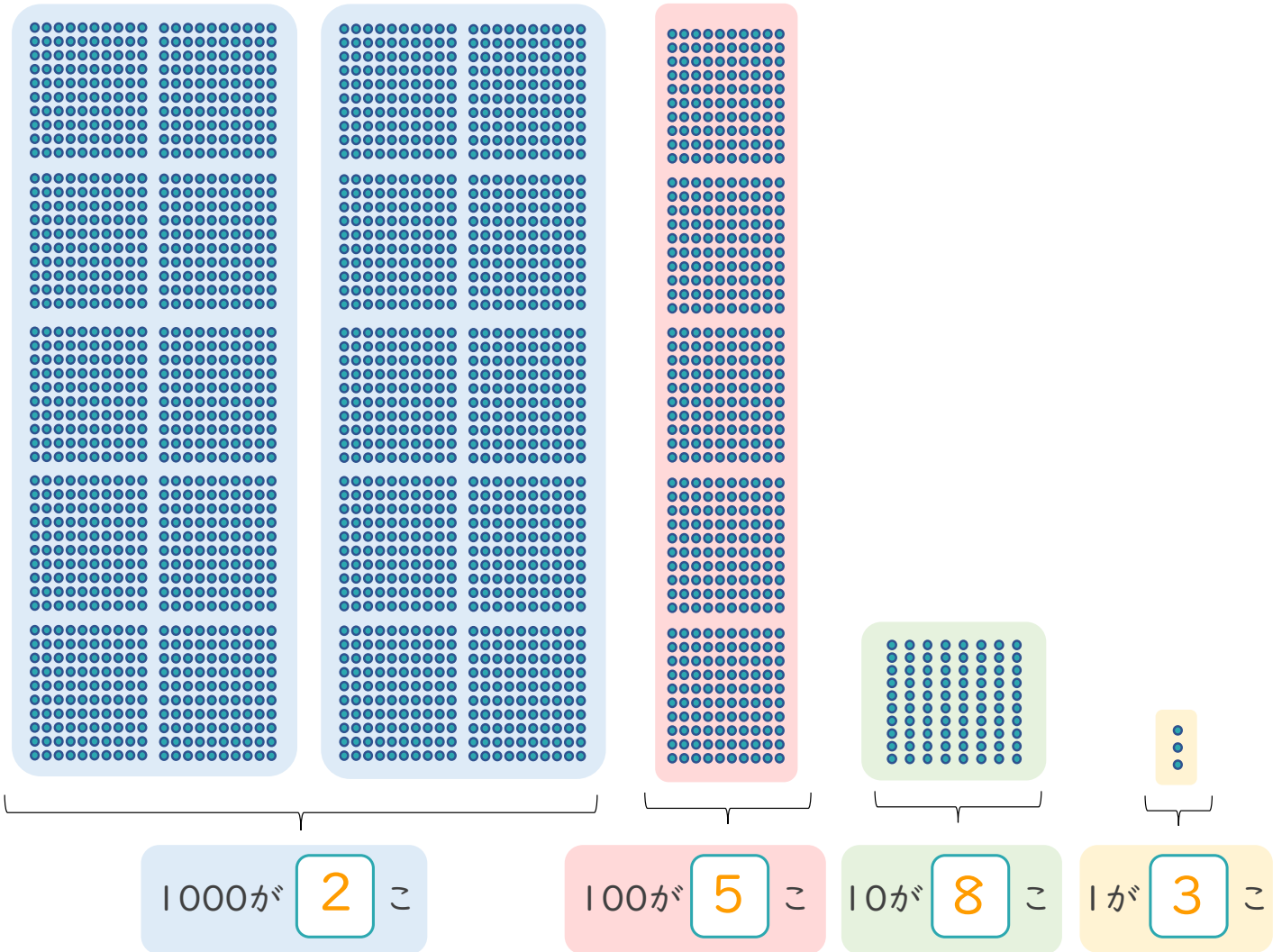
● 千のまとまり



日にち： 月 日

名まえ _____

・ ビーズは何こありますか。□ に数を書きましょう。



は ● が 100こだよ！

100が10こで1000になるね！



ビーズは

2	5	8	3
---	---	---	---

こ

