



分数5

◎ 同じ長さに分けた
テープの1つ分の長さ



日にち： 月 日

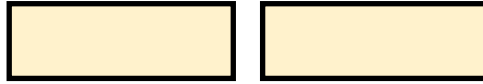

名まえ

・ つぎのもんだいに答えましょう。(うすい字はなぞりましょう。)

① 同じ長さになるように、テープを2つに分けました。

分けた1つ分の長さは、もとの長さの何分の一ですか。

もとの長さ




答え：
 $\frac{1}{2}$


② 同じ長さになるように、テープを7つに分けました。

分けた1つ分の長さは、もとの長さの何分の一ですか。

もとの長さ



答え：



分数5

◎ 同じ長さに分けた
テープの1つ分の長さ



日にち： 月 日

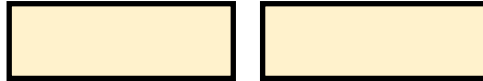
名まえ

・ つぎのもんだいに答えましょう。(うすい字はなぞりましょう。)

① 同じ長さになるように、テープを2つに分けました。

分けた1つ分の長さは、もとの長さの何分の一ですか。

もとの長さ



答え： $\frac{1}{2}$

② 同じ長さになるように、テープを7つに分けました。

分けた1つ分の長さは、もとの長さの何分の一ですか。

もとの長さ



答え： $\frac{1}{7}$