



# 4けたの数 〇〇

◎ 数百のたし算・ひき算

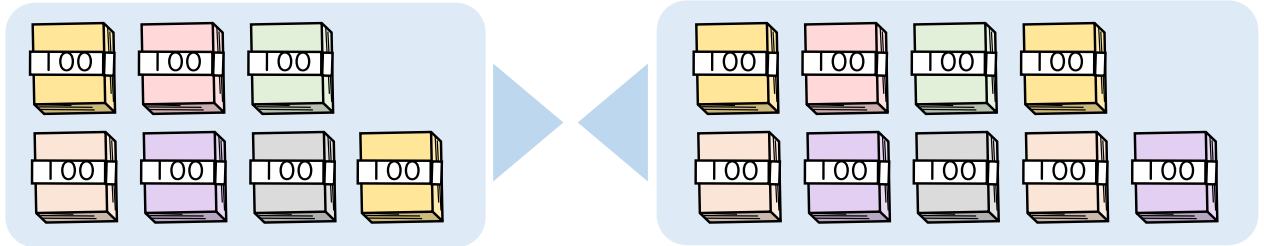


日にち： 月 日

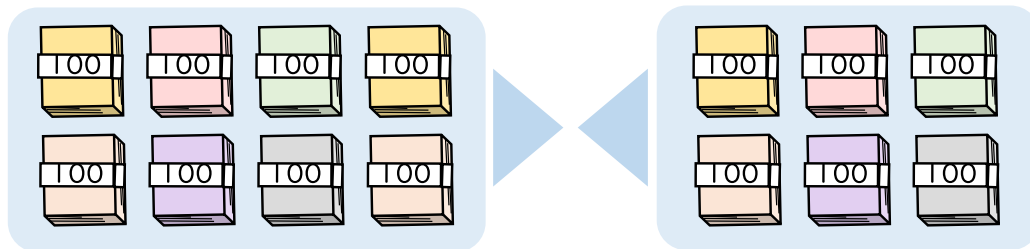
名まえ \_\_\_\_\_

・ たし算をしましょう。

①  $700 + 900 =$

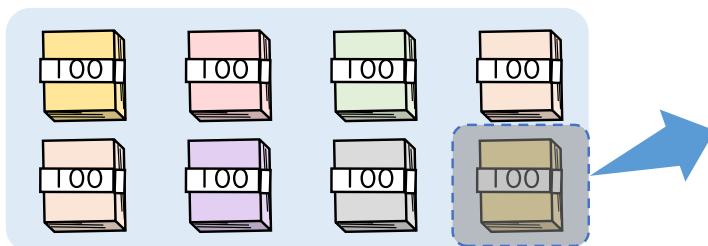


②  $800 + 600 =$

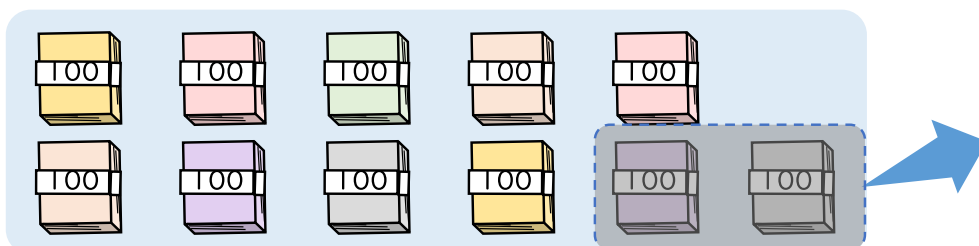


・ ひき算をしましょう。

①  $800 - 100 =$



②  $1100 - 200 =$





# 4けたの数 〇〇

◎ 数百のたし算・ひき算

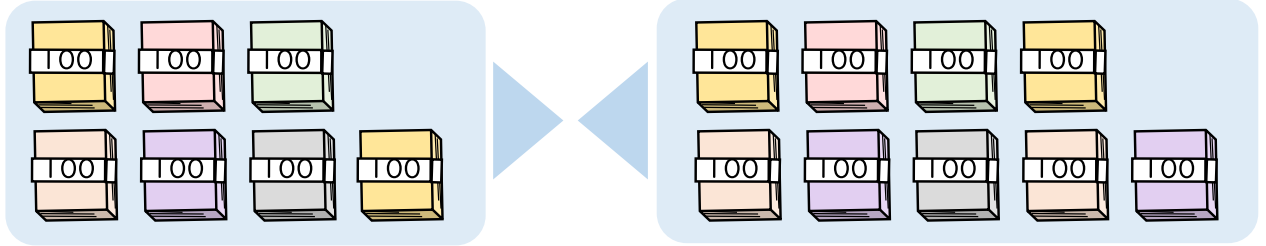


日にち： 月 日

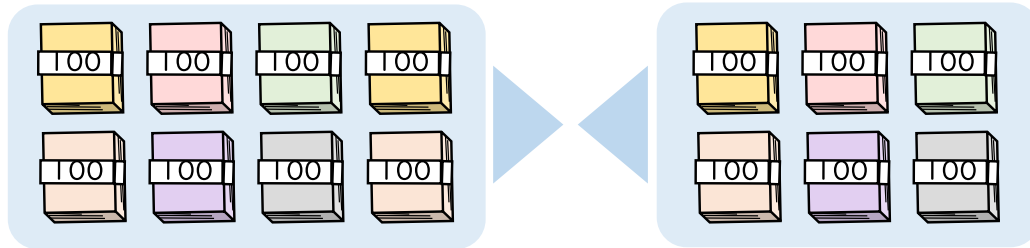
名まえ \_\_\_\_\_

・ たし算をしましょう。

①  $700 + 900 = 1600$

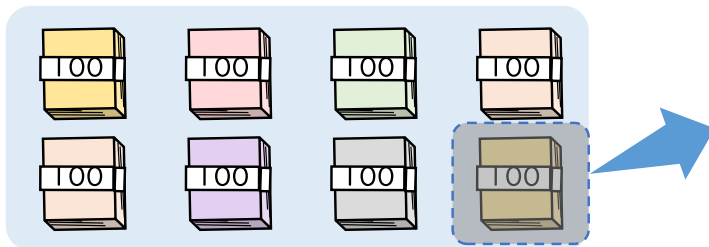


②  $800 + 600 = 1400$



・ ひき算をしましょう。

①  $800 - 100 = 700$



②  $1100 - 200 = 900$

