



長方形と正方形 7

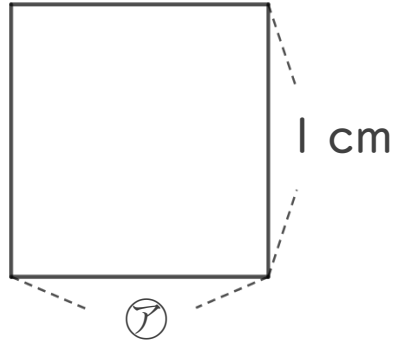
◎ 正方形のまわりの長さ



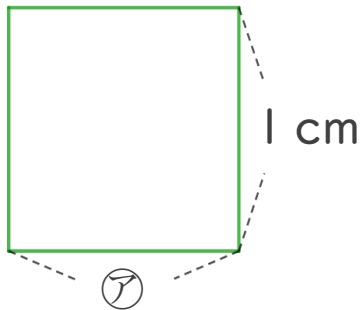
日にち： 月 日

名まえ _____

- 下の形は正方形です。つぎのもんだいに答えましょう。
(うすい字はしっかりなぞりましょう。)

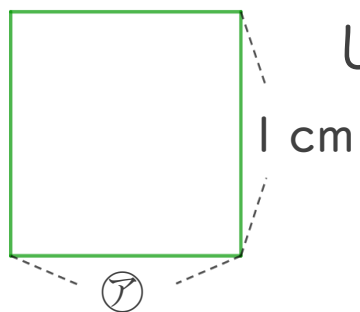


- ① アのへんの長さは、何cmですか。



答え： _____

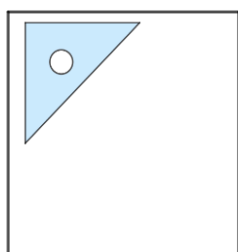
- ② この正方形のまわりの長さは何cmですか。



しき： + + + =

答え： _____

- ③ 直角のかどはいくつありますか。



答え： _____



長方形と正方形 7

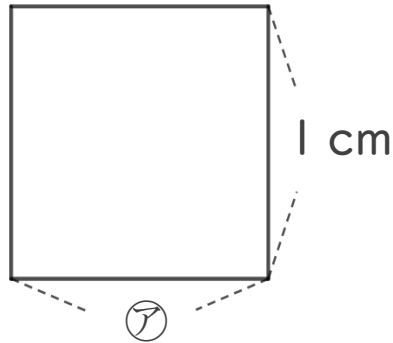
◎ 正方形のまわりの長さ

4

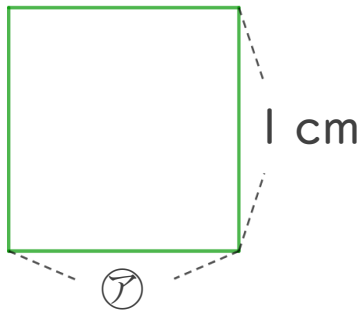
日にち： 月 日

名まえ

- ・下の形は正方形です。つぎのもんだいに答えましょう。
(うすい字はしっかりなぞりましょう。)

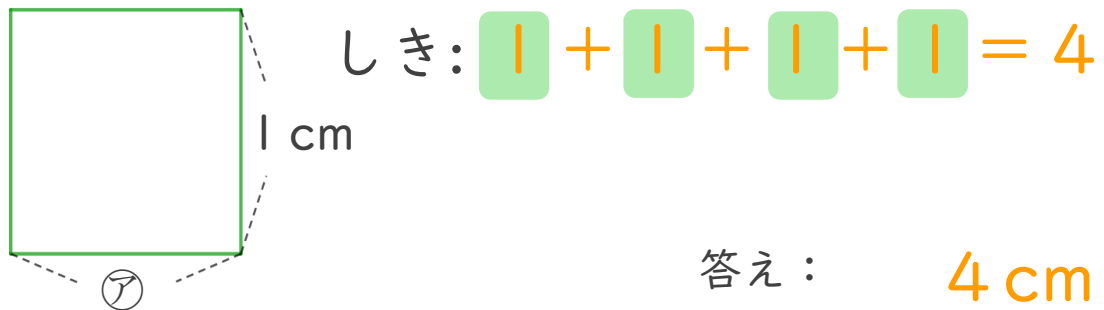


- ① アのへんの長さは、何cmですか。



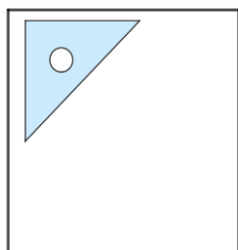
答え： 1 cm

- ② この正方形のまわりの長さは何cmですか。



答え： 4 cm

- ③ 直角のかどはいくつありますか。



答え： 4つ

