



# 長方形と正方形 9

◎ 長方形かな？正方形かな？


4

日にち： 月 日

名まえ \_\_\_\_\_

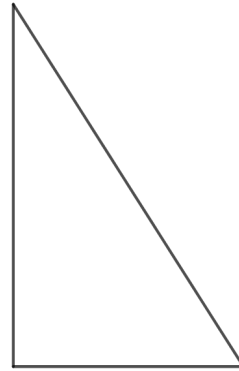
1 つぎの三角形や四角形の名前をいみましょう。

①



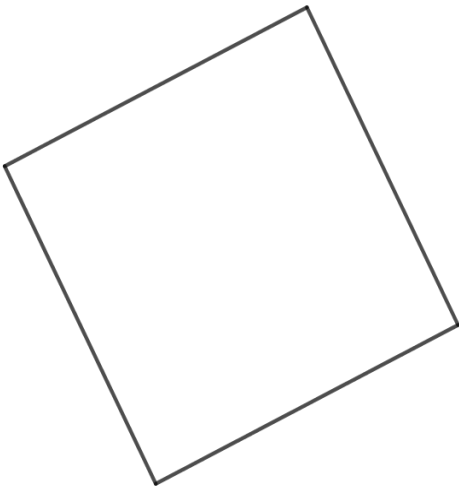
( )

②



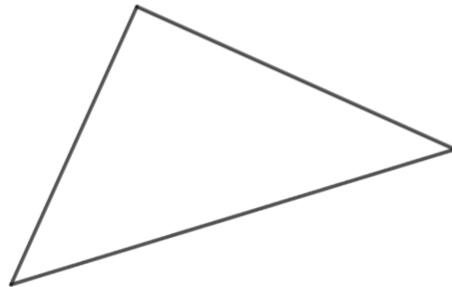
( )

③



( )

④



( )



# 長方形と正方形 9

◎ 長方形かな？正方形かな？


4

日にち： 月 日

名まえ \_\_\_\_\_

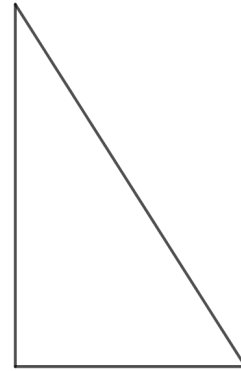
1 つぎの三角形や四角形の名前をいみましょう。

①



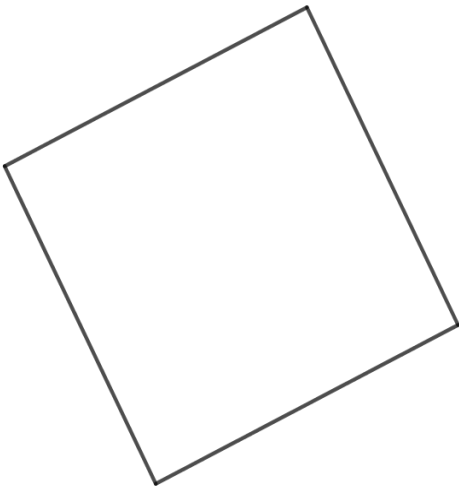
( 長方形 )

②



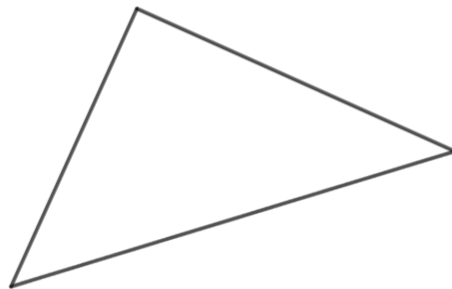
( 直角三角形 )

③



( 正方形 )

④



( 直角三角形 )

