



長方形と正方形 9

● 長方形かな？正方形かな？



日にち： 月 日

名まえ _____

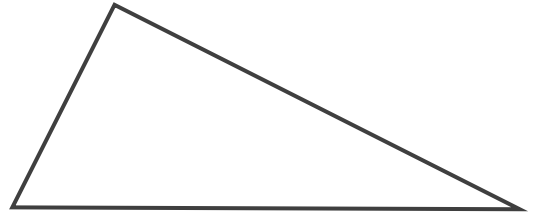
・ つぎの三角形や四角形の名前を書きましょう。

①




〔 長方形 〕

②



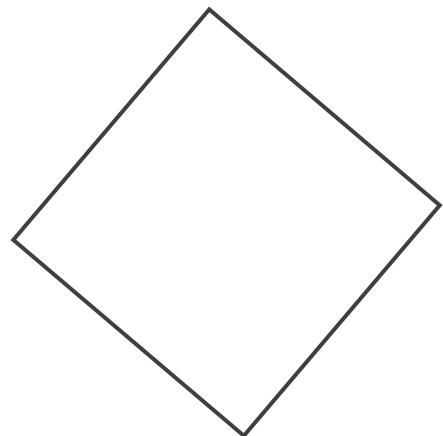
〔 直角三角形 〕

③



〔 直角三角形 〕

④



〔 正方形 〕

