



たし算と  
ひき算のひっ算 6

● 百のくらいからくり下がりがり  
(図でかんがえる)



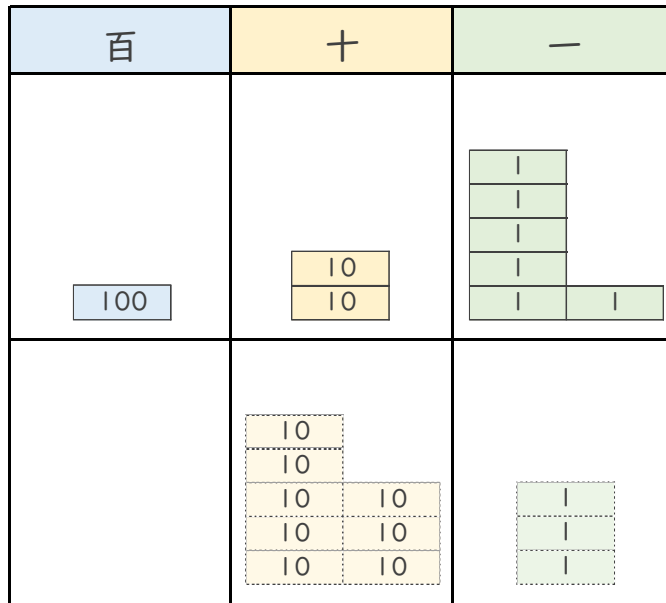
日にち： 月 日

名まえ \_\_\_\_\_

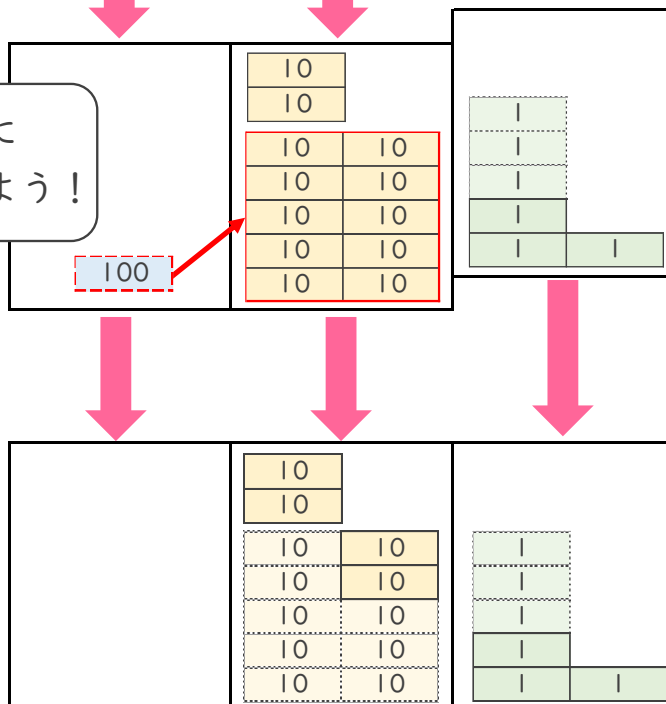
・ メダルを、ぜんぶで126こ 作りました。

83こ くばると、のこりは 何こですか。

しき：  $126 - 83 =$



十のくらいに  
1くり下げよう！



答え： \_\_\_\_\_





たし算と  
ひき算のひっ算 6

● 百のくらいからくり下がり  
(図でかんがえる)



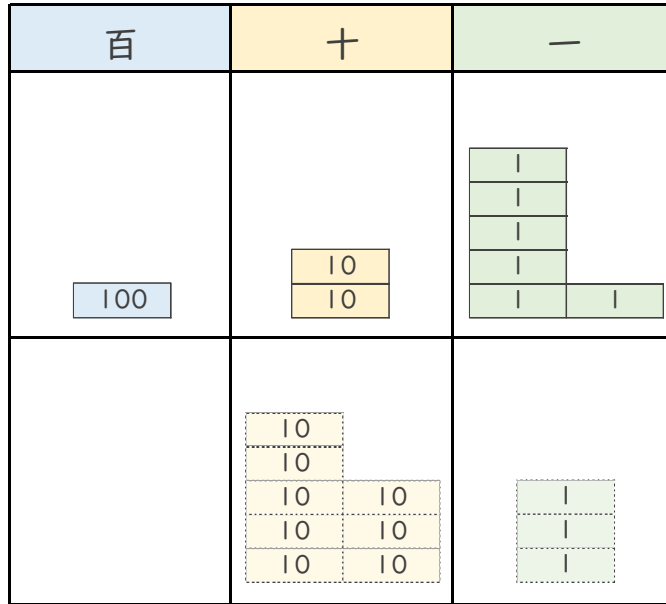
日にち： 月 日

名まえ \_\_\_\_\_

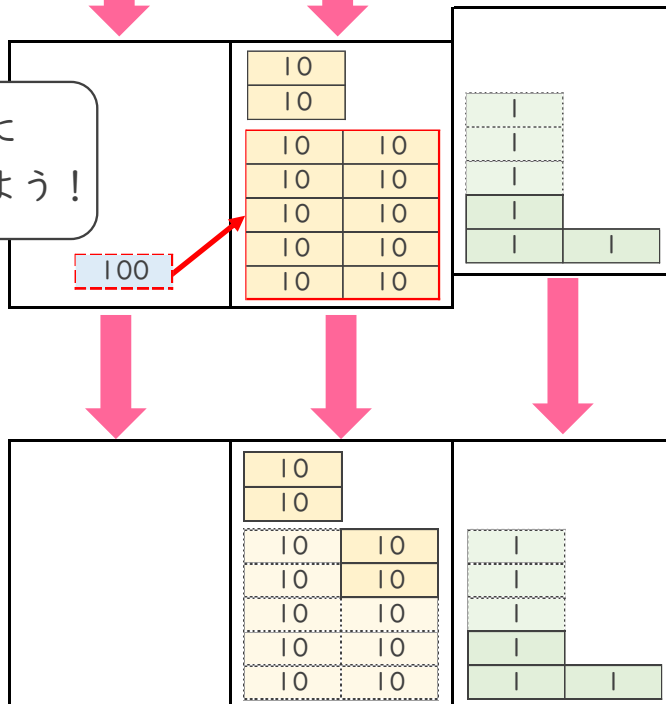
・ メダルを、ぜんぶで126こ 作りました。

83こ くばると、のこりは 何こですか。

しき：  $126 - 83 = 43$



十のくらいに  
1くり下げよう！



答え： 43こ

