



長方形と正方形 3

4

◎ 直角三角形を見つけよう

日にち： 月 日

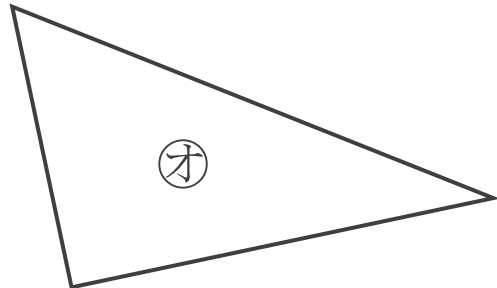
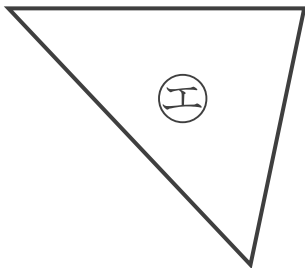
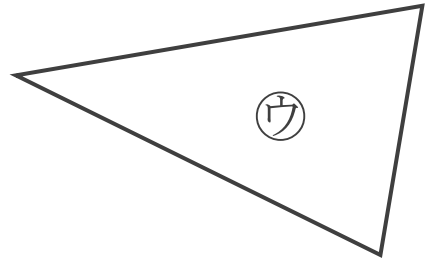
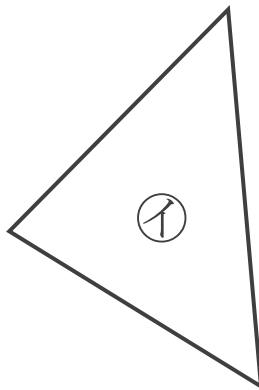
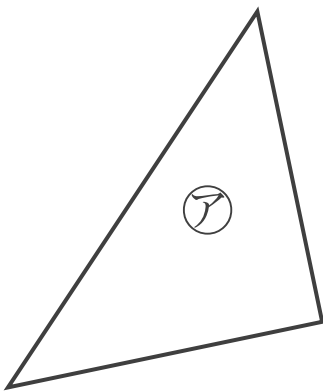
名まえ _____

・ 直角三角形はどれですか。

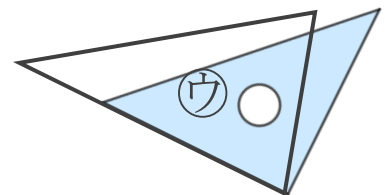
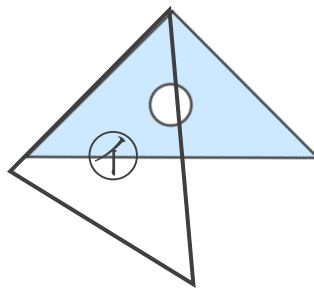
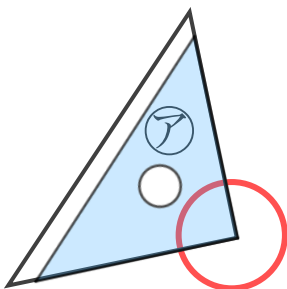
三角じょうぎをつかって、ぜんぶ見つけましょう。

直角のかどがある三角形を

といいます。



三角じょうぎの直角のかどをあててみよう
ぴったりかさなるかどはあるかな？



答え：





長方形と正方形 3

4

◎ 直角三角形を見つけよう

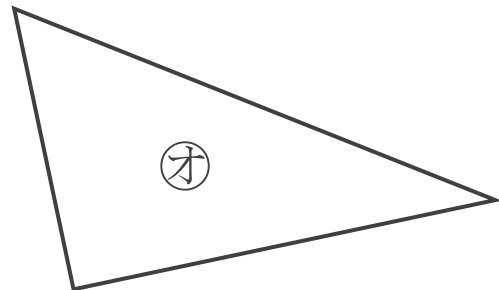
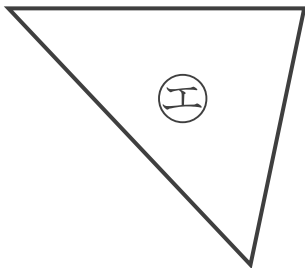
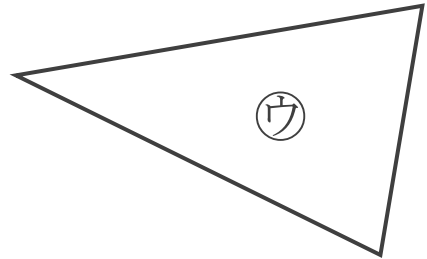
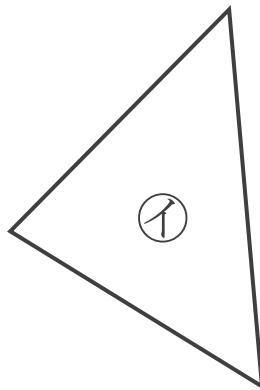
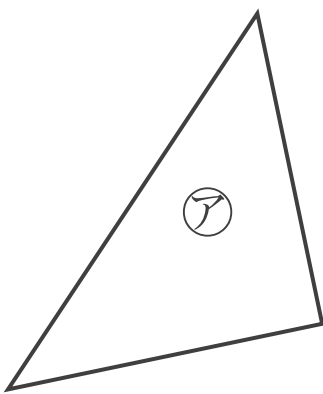
日にち： 月 日

名まえ _____

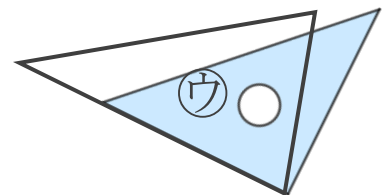
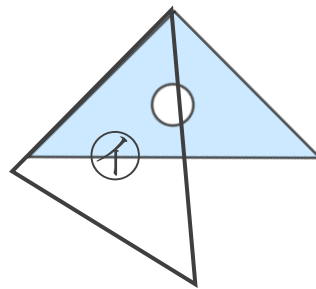
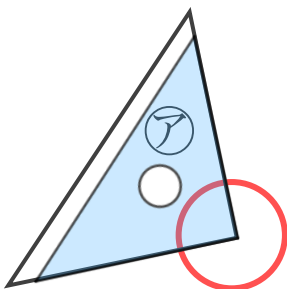
・ 直角三角形はどれですか。

三角じょうぎをつかって、ぜんぶ見つけましょう。

直角のかどがある三角形を **直角三角形** といいます。



三角じょうぎの直角のかどをあててみよう
ぴったりかさなるかどはあるかな？



答え： **ア, オ**

