



はこの形 2

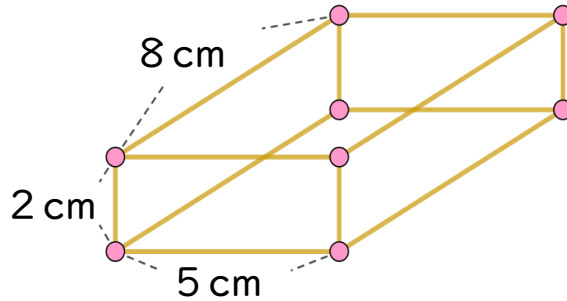
● 竹ひごと
粘土玉で作る箱の形



日にち： 月 日

名まえ _____

1 ひごとねん土玉をつかって、下のようなはこの形を作ります。



① 8 cmのひごはぜんぶで何本ありますか。

答え： _____

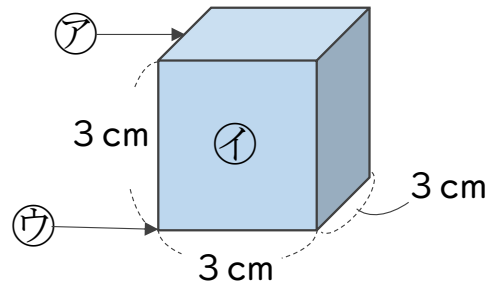
② 5 cmのひごはぜんぶで何本ありますか。

答え： _____

③ ねん土玉はぜんぶで何こありますか。

答え： _____

2 つぎの形について答えましょう。



① ア～ウはそれぞれいくつありますか。

答え： ア…

イ…

ウ…

② うつしとった面の形は何という四角形ですか。

答え： _____

③ 同じ長さのへんは、いくつありますか。

答え： _____



はこの形 2

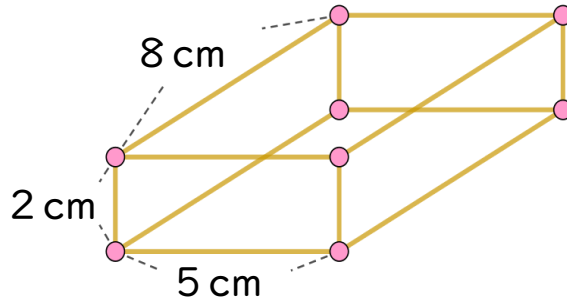
● 竹ひごと
粘土玉で作る箱の形



日にち： 月 日

名まえ _____

1 ひごとねん土玉をつかって、下のようなはこの形を作ります。



① 8 cmのひごはぜんぶで何本ありますか。

答え： 4本

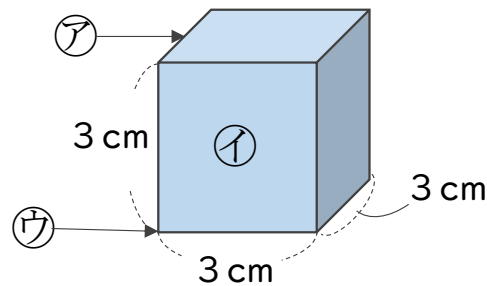
② 5 cmのひごはぜんぶで何本ありますか。

答え： 4本

③ ねん土玉はぜんぶで何こありますか。

答え： 12こ

2 つぎの形について答えましょう。



① ア～ウはそれぞれいくつありますか。

答え： ア… 12本 イ… 6つ ウ… 8つ

② うつしとった面の形は何という四角形ですか。

答え： 正方形

③ 同じ長さのへんは、いくつありますか。

答え： 12本