



分数 2

● 色をぬった部分は何分の一？

4


日にち： 月 日

名まえ

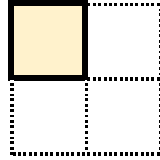
・色をぬったぶんはもとの大きさの何分の一ですか。

(うすい字はなぞろう。)

①




もとの大きさ



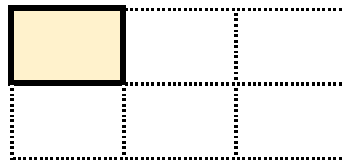
答え：

$\frac{1}{4}$

②




もとの大きさ

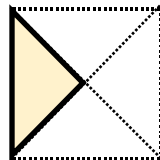


答え：

③



もとの大きさ

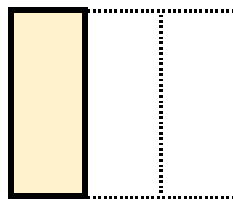


答え：

④




もとの大きさ



答え：





分数 2

● 色をぬった部分は何分の一？

4


日にち： 月 日

名まえ

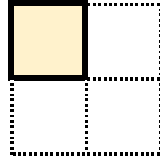
・色をぬったぶんはもとの大きさの何分の一ですか。

(うすい字はなぞろう。)

①




もとの大きさ

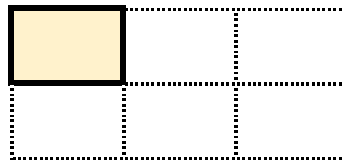


答え： $\frac{1}{4}$

②




もとの大きさ

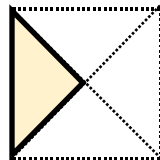


答え： $\frac{1}{6}$

③



もとの大きさ

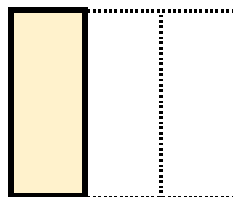


答え： $\frac{1}{4}$

④



もとの大きさ



答え： $\frac{1}{3}$

