



# 4けたの数4

●色紙のまい数を  
数字であらわそう




日にち： 月 日

名まえ \_\_\_\_\_

・色紙の数を 数字で書きましょう。(うすい字はなぞりましょう。)

①





千	百	十	一

それぞれのたばの数を  
表に入れてみよう!



まい

②



千	百	十	一

まい





# 4けたの数4

●色紙のまい数を  
数字であらわそう




日にち： 月 日

名まえ \_\_\_\_\_

・色紙の数を 数字で書きましょう。(うすい字はなぞりましょう。)

①





千	百	十	一
6	3	0	1

それぞれのたばの数を  
表に入れてみよう!



6301 まい

②



千	百	十	一
3	2	1	4

3214 まい

