



# 4けたの数 4

● 色紙のまい数を  
数字であらわそう




日にち： 月 日

名まえ \_\_\_\_\_

・ 色紙の数を 数字で書きましょう。

①



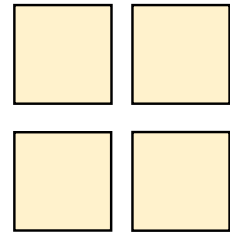
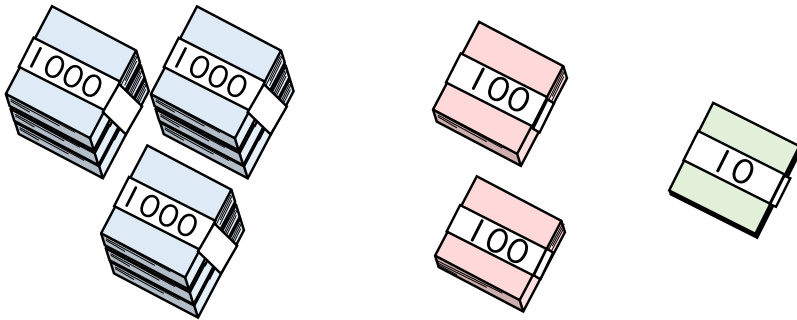
千	百	十	一

それぞれのたばの数を  
表に入れてみよう！



{ まい }

②



千	百	十	一

{ まい }





# 4けたの数 4

● 色紙のまい数を  
数字であらわそう





日にち： 月 日

名まえ \_\_\_\_\_

・ 色紙の数を 数字で書きましょう。

①



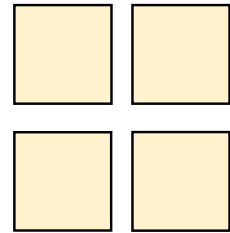
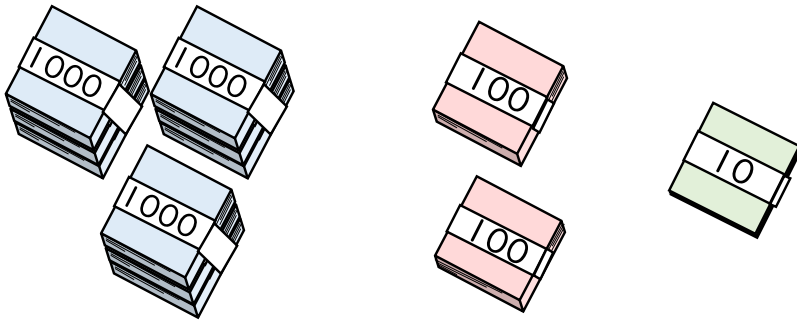
千	百	十	一
6	3	0	1

それぞれのたばの数を  
表に入れてみよう！



6301 まい

②



千	百	十	一
3	2	1	4

3214 まい

