



## 長方形と正方形 4

◎ 長方形を見つけよう



日にち： 月 日

名まえ \_\_\_\_\_

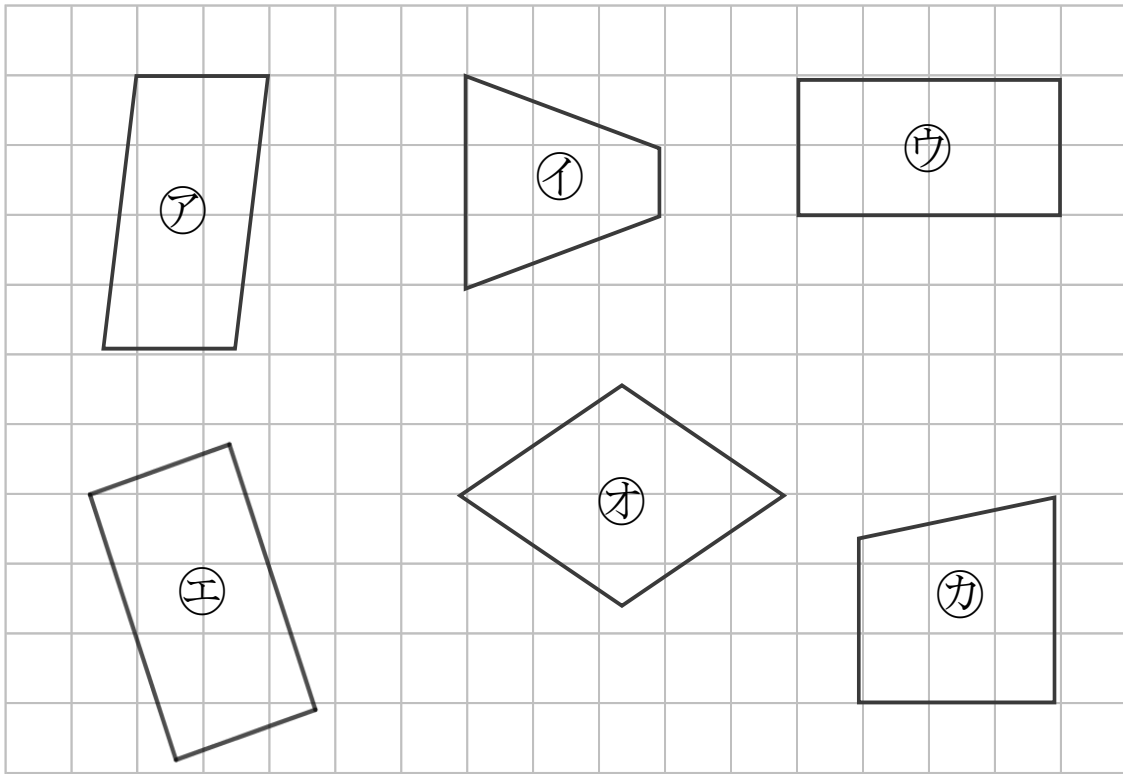
・ 長方形はどれですか。

三角じょうぎをつかって、ぜんぶ見つけましょう。

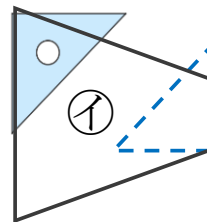
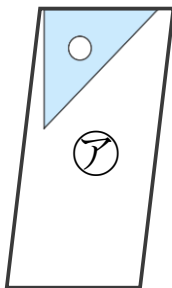
4つのかどがみんな直角になっている四角形を



といいます。



ぜんぶのかどに 三角じょうぎの直角のかどをあててみよう！



答え：



## 長方形と正方形 4

◎ 長方形を見つけよう



日にち： 月 日

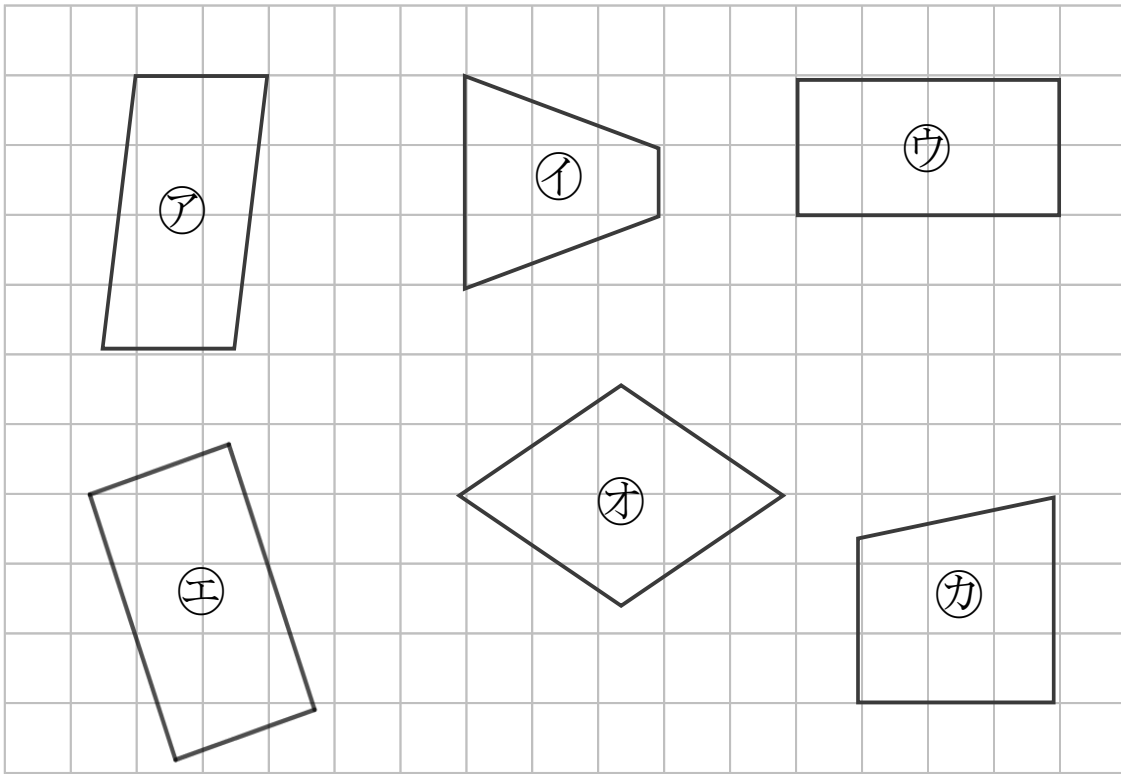
名まえ \_\_\_\_\_

・ 長方形はどれですか。

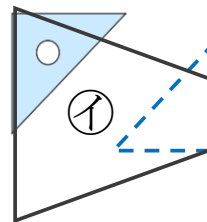
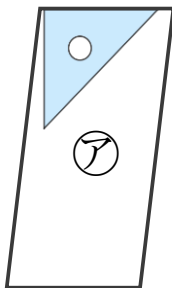
三角じょうぎをつかって、ぜんぶ見つけましょう。

4つのかどがみんな直角になっている四角形を

**長方形** といいます。



ぜんぶのかどに 三角じょうぎの直角のかどをあててみよう！



答え： **ウ** , **エ**