



長方形と正方形 4



◎ 長方形を見つけよう

日にち： 月 日

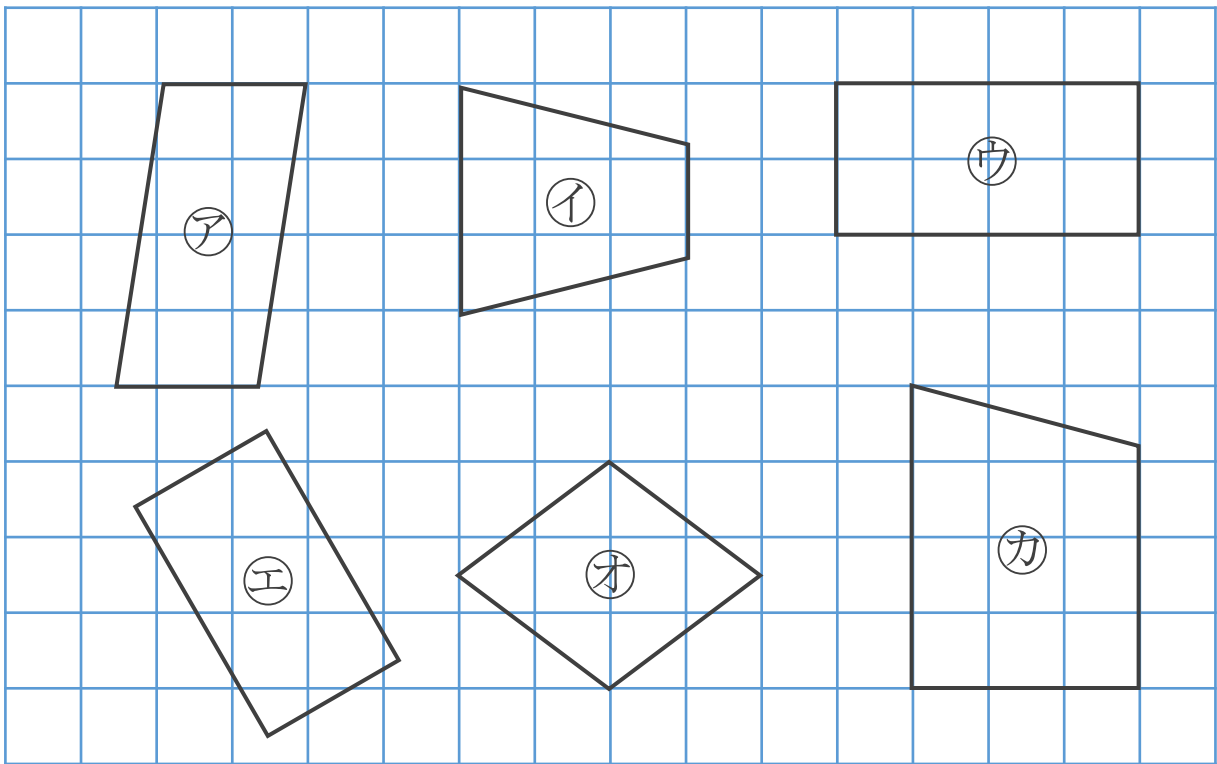
名まえ _____

- ・ 長方形はどれですか。三角じょうぎをつかって、ぜんぶ見つけましょう。(うすい字はなぞりましょう。)

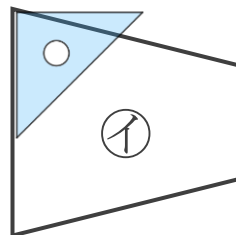
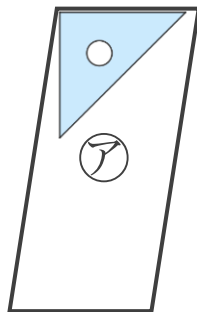
4つのかどがみんな直角になっている四角形を



といいます。



三角じょうぎの直角のかどをあててみよう！



答え：

,





長方形と正方形 4



◎ 長方形を見つけよう

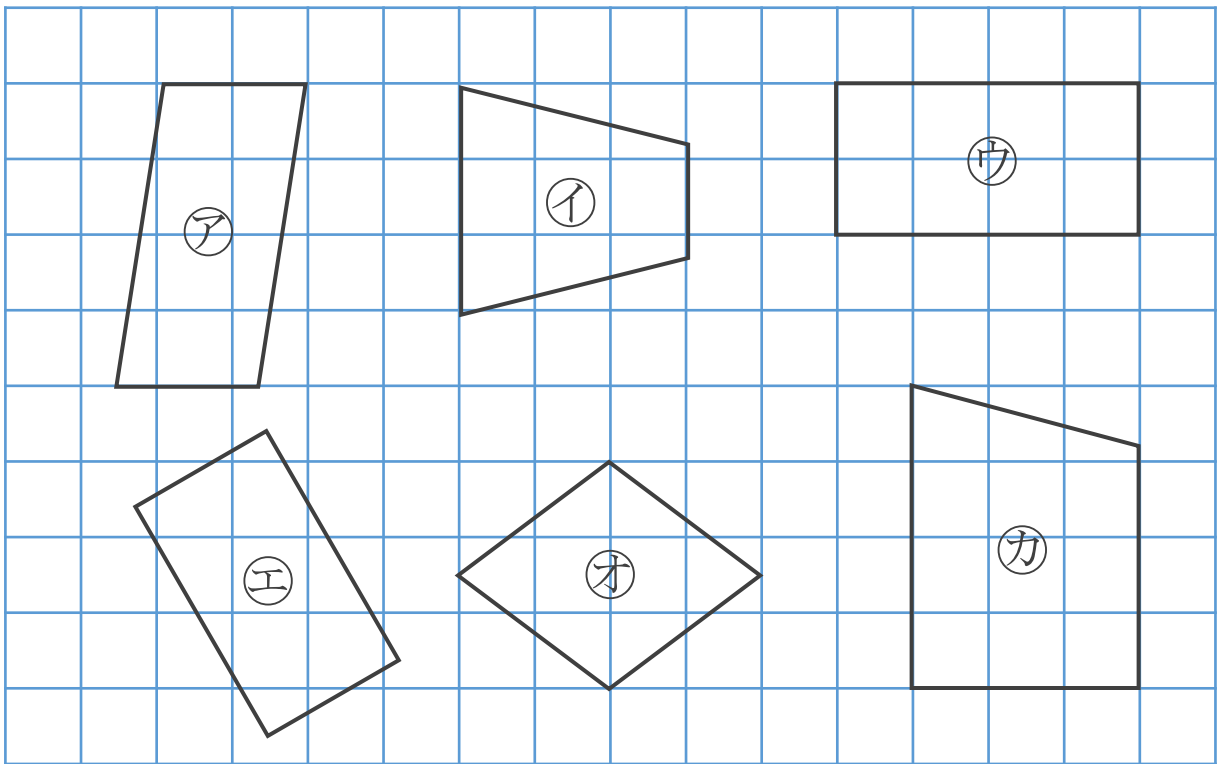
日にち： 月 日

名まえ _____

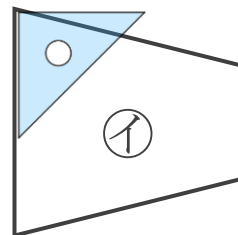
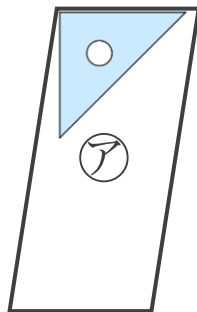
- ・ 長方形はどれですか。三角じょうぎをつかって、ぜんぶ見つけましょう。(うすい字はなぞりましょう。)

4つのかどがみんな直角になっている四角形を

長方形 といいます。



三角じょうぎの直角のかどをあててみよう！



答え： **ウ, エ**

