



長いものの長さ3

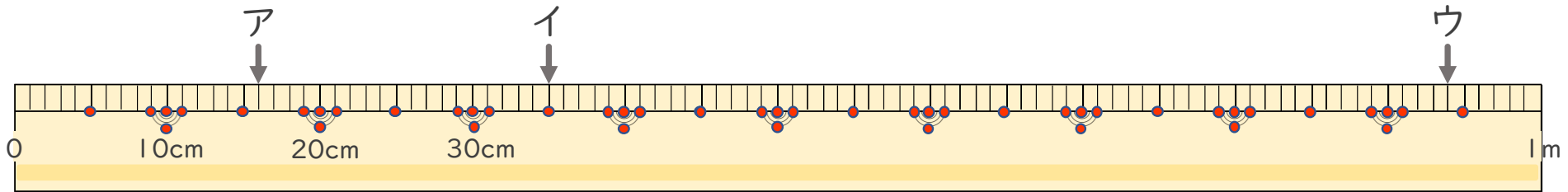
● 1メートルものさしの読みかた



日にち： 月 日

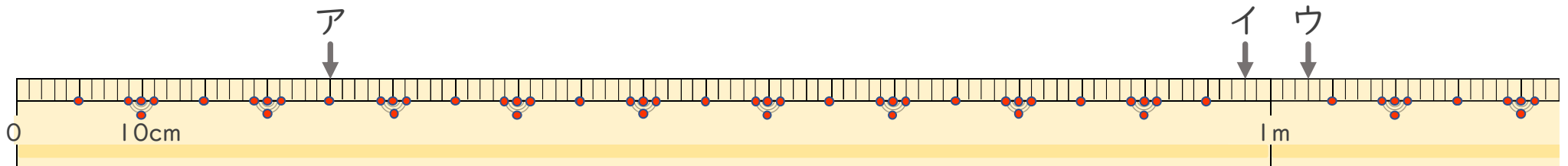
名まえ _____

1 ^{ひだり}左はしからア、イ、ウ、までの ^{なが}長さはそれぞれどれだけですか。（うすい字はなぞりましょう。）



ア (16 cm) イ () ウ ()

2 ^{ひだり}左はしからア、イ、ウ、までの ^{なが}長さはそれぞれどれだけですか。



ア () イ () ウ ()



長いものの長さ3

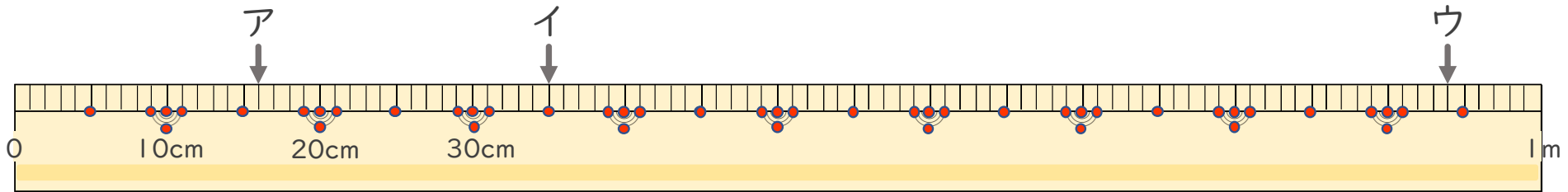
● 1メートルものさしの読みかた



日にち： 月 日

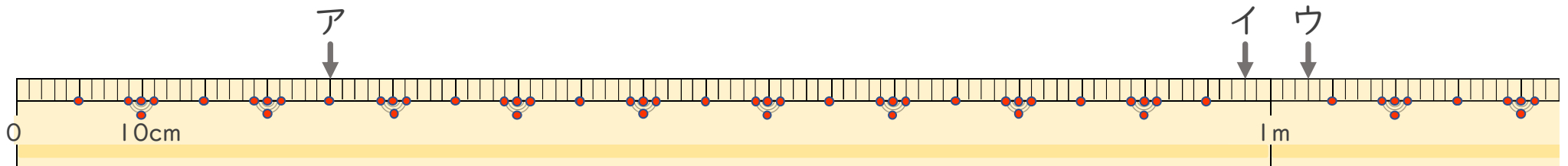
名まえ _____

1 ^{ひだり}左はしからア、イ、ウ、までの^{なが}長さはそれぞれどれだけですか。（うすい字はなぞりましょう。）



ア (16 cm) イ (35 cm) ウ (94 cm)

2 ^{ひだり}左はしからア、イ、ウ、までの^{なが}長さはそれぞれどれだけですか。



ア (25 cm) イ (98 cm) ウ (1 m 3 cm)