



長いものの長さ3

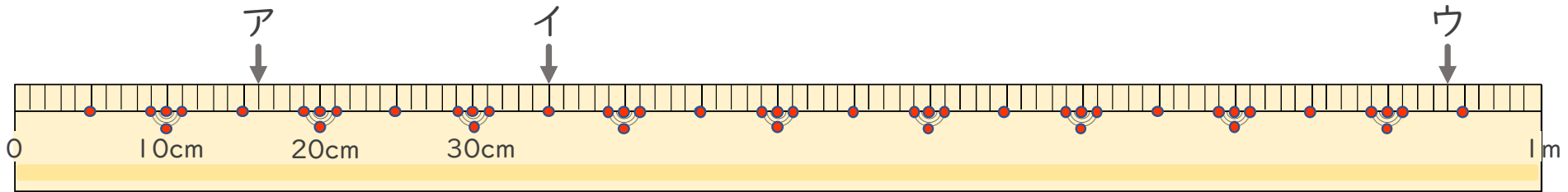
● 1メートルものさしの読みかた



日にち： 月 日

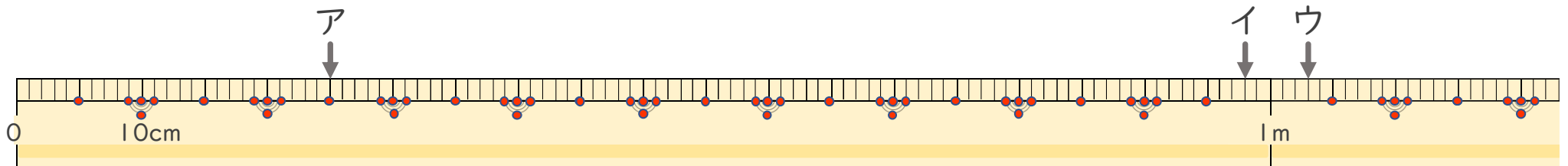
名まえ _____

1 左はしからア、イ、ウ、までの長さながはそれぞれどれだけですか。（うすい字はなぞりましょう。）



ア（ 16cm ） イ（ ） ウ（ ）

2 左はしからア、イ、ウ、までの長さながはそれぞれどれだけですか。



ア（ ） イ（ ） ウ（ ）



長いものの長さ3

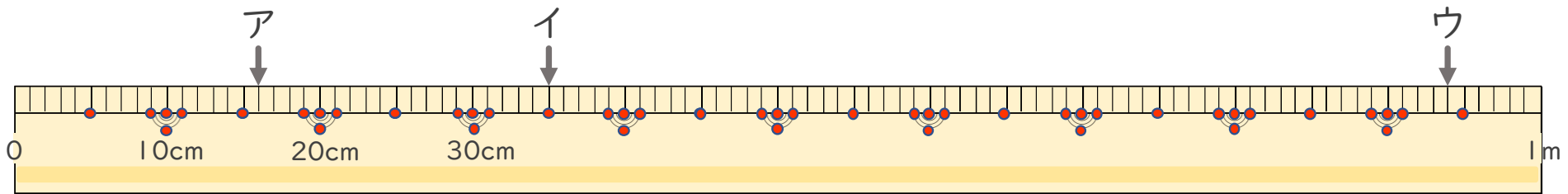
● 1メートルものさしの読みかた



日にち： 月 日

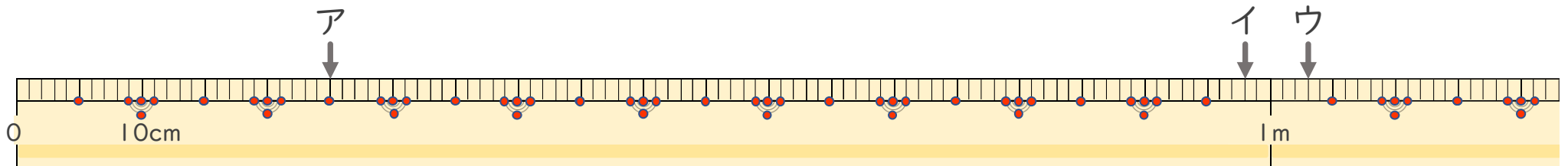
名まえ _____

1 左はしからア、イ、ウ、までの長さながはそれぞれどれだけですか。（うすい字はなぞりましょう。）



ア (16 cm) イ (35 cm) ウ (94 cm)

2 左はしからア、イ、ウ、までの長さながはそれぞれどれだけですか。



ア (25 cm) イ (98 cm) ウ (1 m 3 cm)