



かけ算 31

◎ 2から5のだんの
ぶんしょうもんだい



日にち： 月 日

名まえ _____

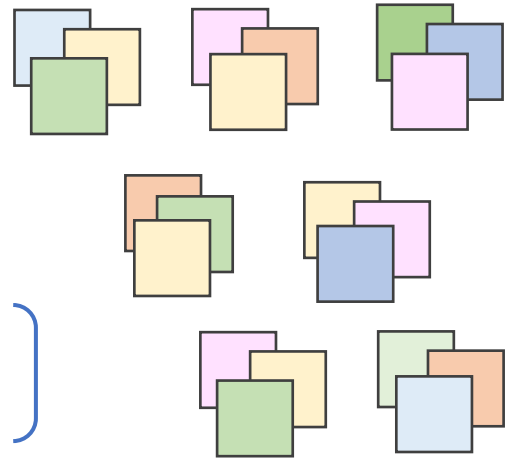
1 色紙を 1人に 3まいずつ くばります。

7人に くばるには、色紙は ぜんぶで 何まい いらいますか。
(うすい字はなぞりましょう。)

しき： × =

↑ ↑

1つ分の数 いくつ分



答え ()

2 はこが 5はこ あります。

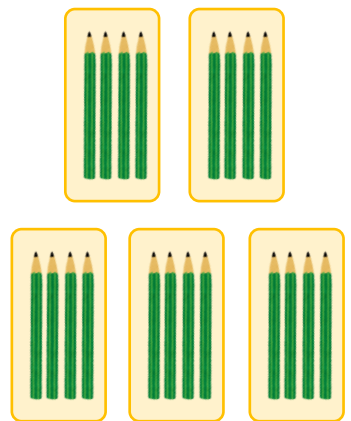
1はこに、 えんぴつを 4本ずつ いらいます。

えんぴつは、 ぜんぶで なん本 いらいますか。
(うすい字はなぞりましょう。)

しき： × =

↑ ↑

1つ分の数 いくつ分



答え ()





かけ算 31

◎ 2から5のだんの
ぶんしょうもんだい



日にち： 月 日

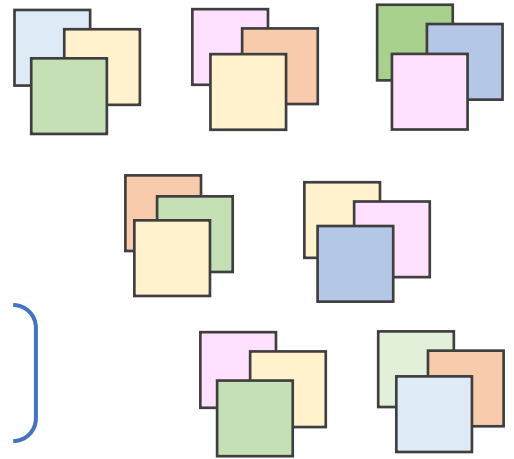
名まえ _____

1 色紙を 1人に 3まいずつ くばります。

7人に くばるには、色紙は ぜんぶで 何まい いきますか。
(うすい字はなぞりましょう。)

1つ分の数 いくつ分

しき: $3 \times 7 = 21$



答え (21まい)

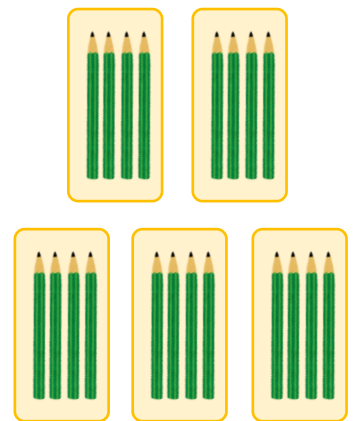
2 はこが 5はこ あります。

1はこに、 えんぴつを 4本ずつ いきます。

えんぴつは、 ぜんぶで なん本 いきますか。
(うすい字はなぞりましょう。)

1つ分の数 いくつ分

しき: $4 \times 5 = 20$



答え (20本)