



分数3

● もとの大きさの○分の一をさがす

5

日にち： 月 日

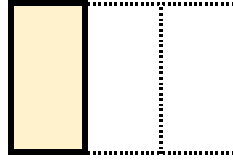
名まえ

1 もとの大きさの $\frac{1}{3}$ はどれですか。(うすい字はなぞりましょう。)

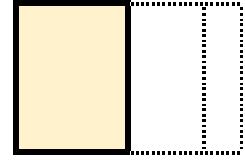


もとの大きさ

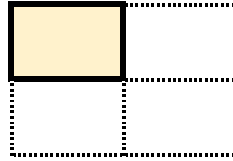
㉠



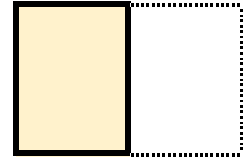
㉡



㉢




㉣



答え：

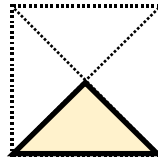
㉠

2 もとの大きさの $\frac{1}{2}$ はどれですか。




もとの大きさ

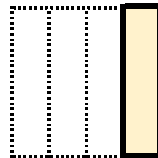
㉠



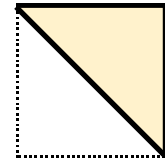
㉡



㉢




㉣



答え：





分数3

● もとの大きさの○分の一をさがす

5

日にち： 月 日

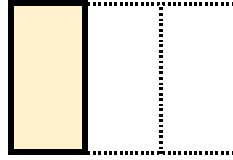
名まえ

1 もとの大きさの $\frac{1}{3}$ はどれですか。(うすい字はなぞりましょう。)

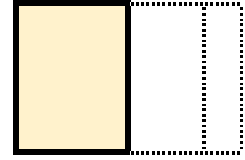


もとの大きさ

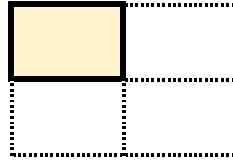
㉠



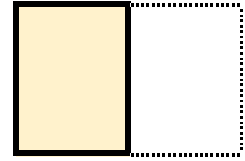
㉡



㉢




㉣



答え：

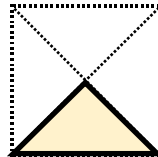
㉠

2 もとの大きさの $\frac{1}{2}$ はどれですか。




もとの大きさ

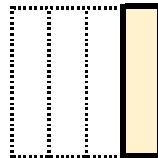
㉠



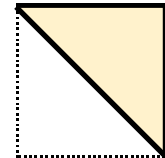
㉡



㉢



㉣



答え：

㉣

