



分数6

● もとの大きさはいくつ分？

5

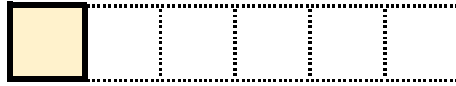
日にち： 月 日

名まえ


・ つぎのもんだいに答えましょう。(うすい字はなぞりましょう。)

① もとの長さの $\frac{1}{6}$ をいくつあつめると、もとの長さになりますか。

もとの長さの $\frac{1}{6}$




もとの長さ




答え： 6つ

② もとの長さの $\frac{1}{2}$ をいくつあつめると、もとの長さになりますか。

もとの長さの $\frac{1}{2}$



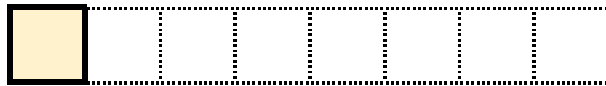
もとの長さ



答え：

③ もとの長さの $\frac{1}{8}$ をいくつあつめると、もとの長さになりますか。

もとの長さの $\frac{1}{8}$



もとの長さ



答え：



分数6

● もとの大きさはいくつ分？

5


日にち： 月 日

名まえ _____

・ つぎのもんだいに答えましょう。(うすい字はなぞりましょう。)

① もとの長さの $\frac{1}{6}$ をいくつあつめると、もとの長さになりますか。

もとの長さの $\frac{1}{6}$



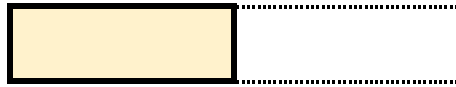
もとの長さ




答え： 6つ

② もとの長さの $\frac{1}{2}$ をいくつあつめると、もとの長さになりますか。

もとの長さの $\frac{1}{2}$



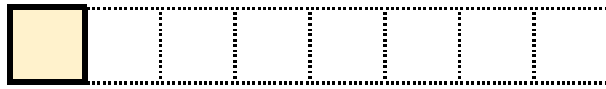
もとの長さ



答え： 2つ

③ もとの長さの $\frac{1}{8}$ をいくつあつめると、もとの長さになりますか。

もとの長さの $\frac{1}{8}$



もとの長さ



答え： 8つ