



# 長さのたんい 7

● ものさしではかる (mm)

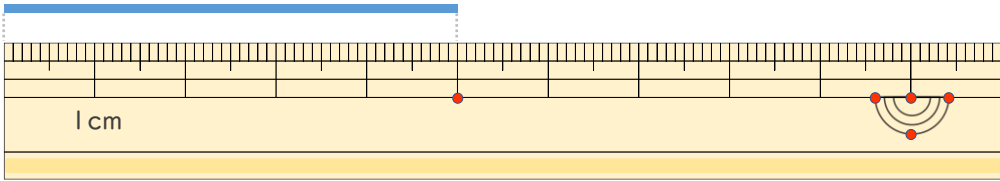


日にち：            月            日

名まえ \_\_\_\_\_

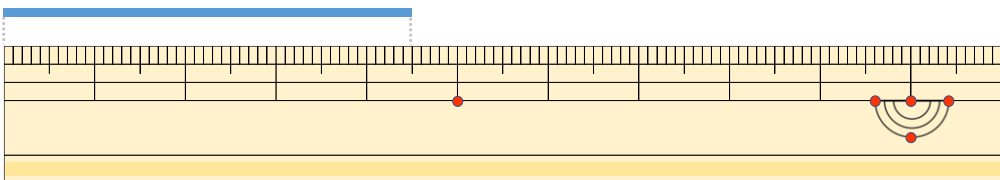
・ <sup>せん</sup>線の <sup>なが</sup>長さは どれだけですか。

①



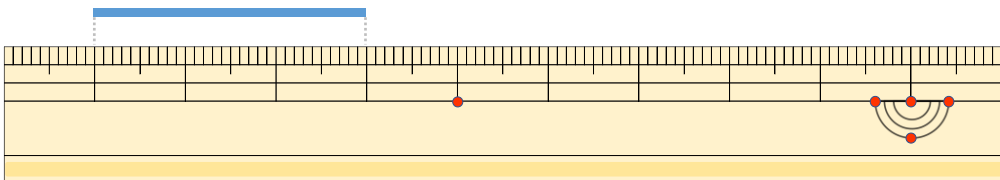
こた 答え (            )

②



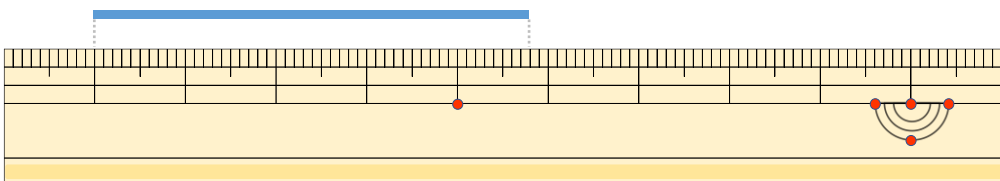
こた 答え (            )

③



こた 答え (            )

④



こた 答え (            )



# 長さのたんい 7

● ものさしではかる (mm)

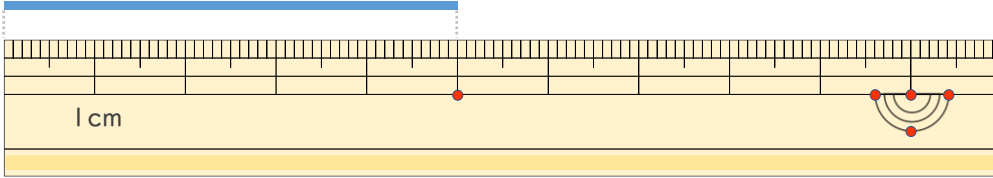
# 5

日にち：            月            日

名まえ \_\_\_\_\_

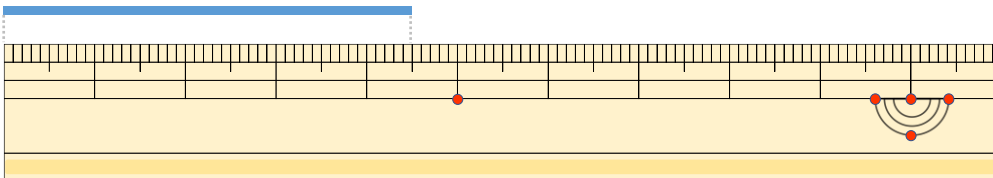
せん なが  
・線の長さはどれだけですか。

①



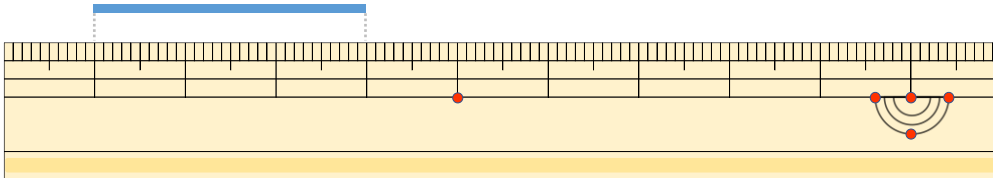
こた  
答え ( 5 cm )

②



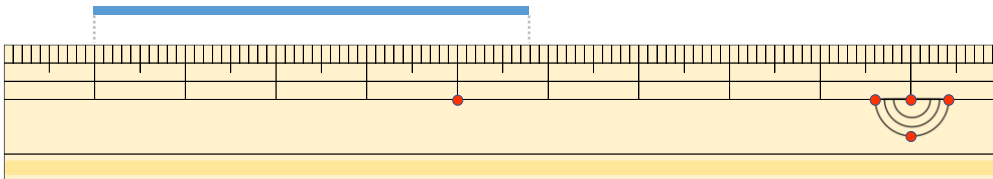
こた  
答え ( 4 cm 5 mm )

③



こた  
答え ( 3 cm )

④



こた  
答え ( 4 cm 8 mm )

