



# 長さのたんい 7

● ものさしではかる (mm)

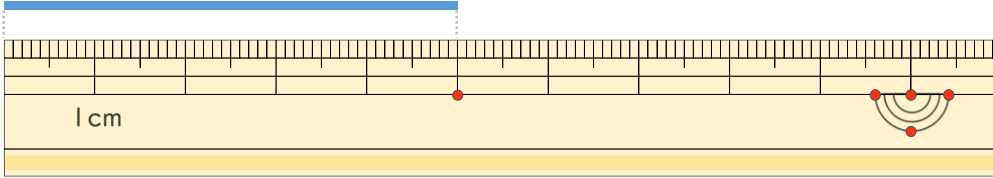


日にち： 月 日

名まえ \_\_\_\_\_

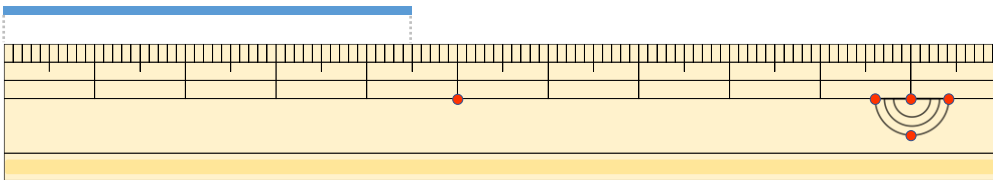
せん なが  
・線の長さはどれだけですか。

①



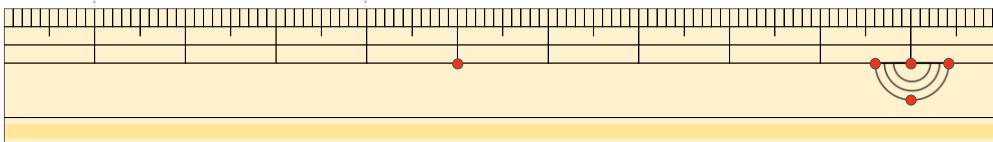
こた  
答え ( )

②



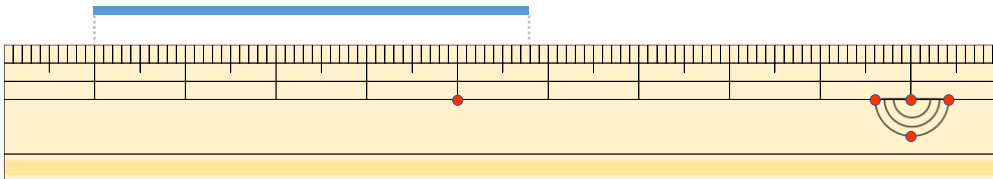
こた  
答え ( )

③



こた  
答え ( )

④



こた  
答え ( )





# 長さのたんい 7

● ものさしではかる (mm)

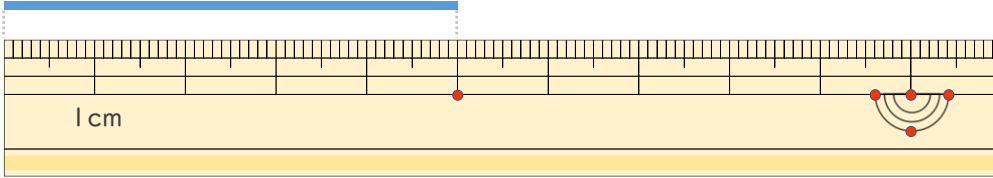
# 5

日にち：            月            日

名まえ \_\_\_\_\_

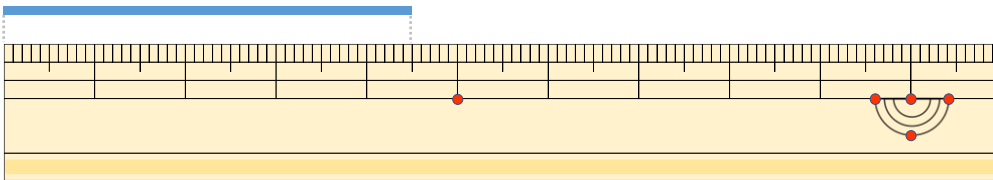
せん      なが  
・線の長さはどれだけですか。

①



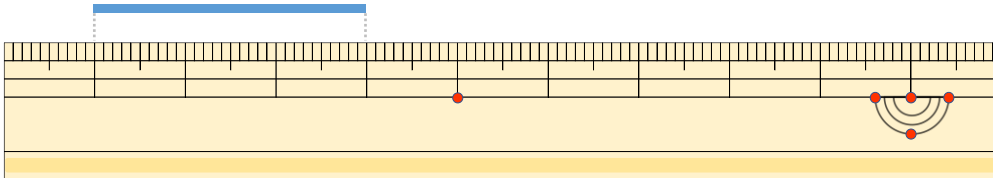
こた  
答え (      5 cm      )

②



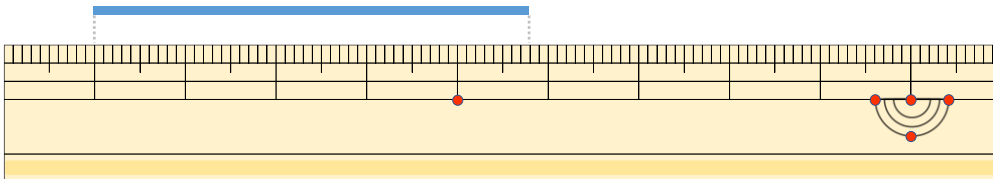
こた  
答え (      4 cm 5 mm      )

③



こた  
答え (      3 cm      )

④



こた  
答え (      4 cm 8 mm      )