



長さのたんい 6

● ものさしの見かた (mm)

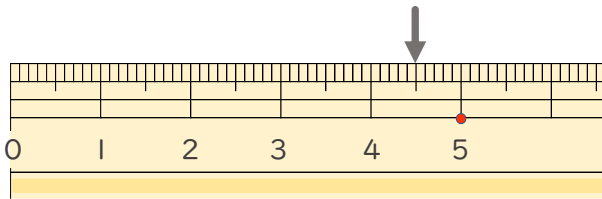


日にち： 月 日

名まえ _____

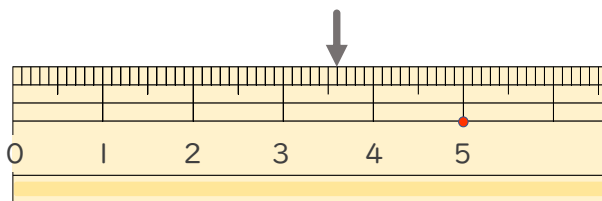
1 ^{ひだり} 左はしから ↓ までの ^{なが} 長さは ^{なん} 何cm ^{なん} 何mm ですか。
(うすい字は ^し なぞりましょう。)

①



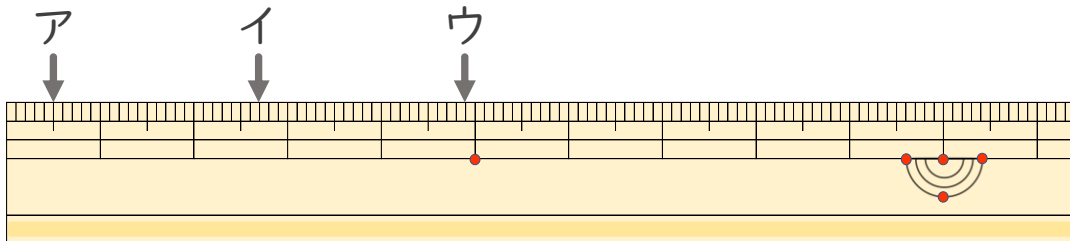
答え (4 cm 5 mm)

②



答え (3 mm 6 mm)

2 ^{ひだり} 左はしから ア、イ、ウ、までの ^{なが} 長さはそれぞれどれだけで
すか。



ア (5 mm) イ (2 cm 7 mm)

ウ (4 cm 9 mm)

