



# 長さのたんい 2

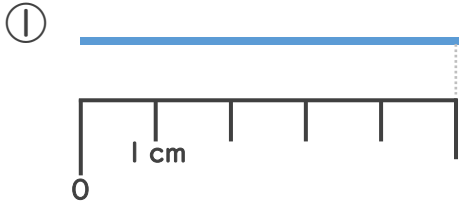
◎ センチメートル

5

日にち：          月          日

名まえ \_\_\_\_\_

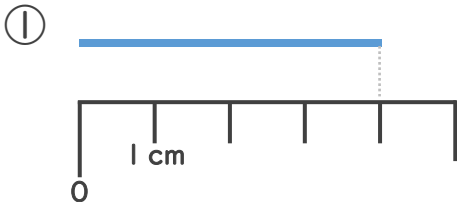
1 <sup>せん</sup>線の長さは <sup>なが</sup>何<sup>なん</sup>cmでしょう。 (うすい字はなぞりましょう。)



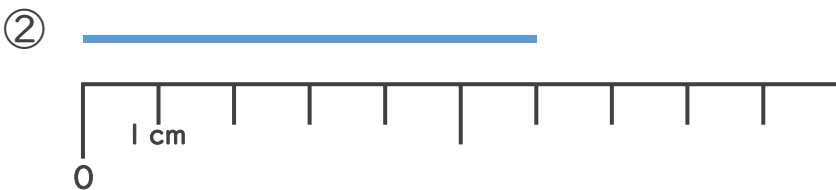
1 cmが5つ分あるね!

こた 答え (          cm )

2 <sup>せん</sup>線の長さは <sup>なが</sup>何<sup>なん</sup>cmでしょう。 (うすい字はなぞりましょう。)



こた 答え (          cm )



こた 答え (                      )





# 長さのたんい 2

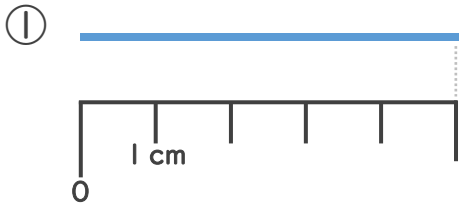
● センチメートル

# 5

日にち：            月            日

名まえ \_\_\_\_\_

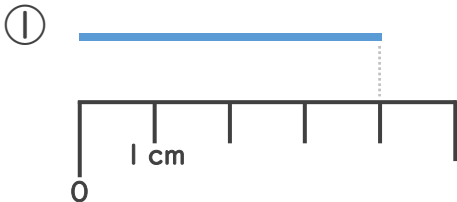
1 線の長さは何cmでしょう。（うすい字はなぞりましょう。）



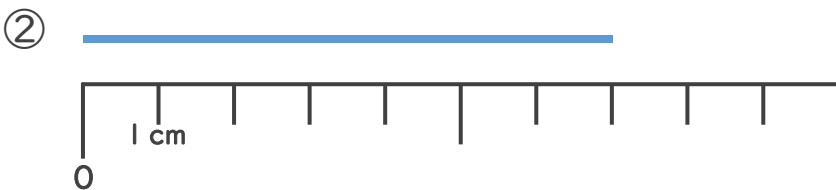
1 cmが5つ分あるね！

こた 答え（ 5 cm ）

2 線の長さは何cmでしょう。（うすい字はなぞりましょう。）



こた 答え（ 4 cm ）



こた 答え（ 7 cm ）

